


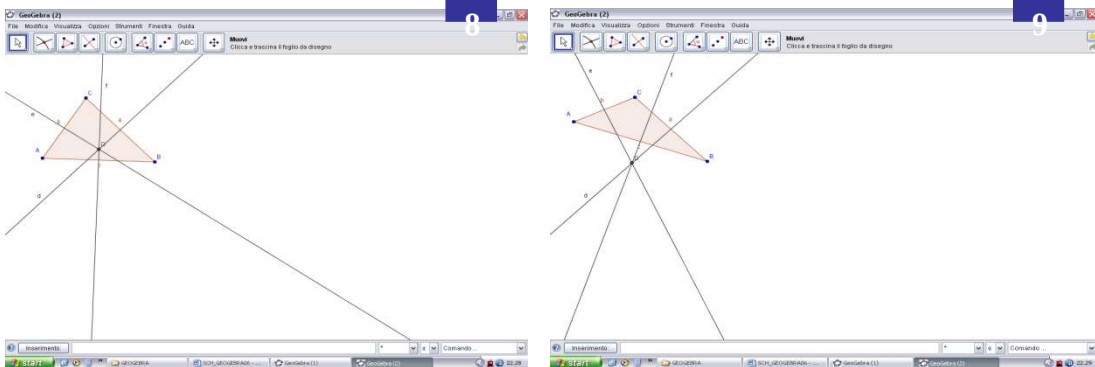



Protocollo di costruzione del circoentro di un triangolo.

- Sul piano disegna tre punti A, B, C.
- Utilizzando lo strumento **Triangolo**  disegna il triangolo ABC.
- Utilizzando lo strumento **Asse**  seleziona uno alla volta i lati del triangolo, individua le rette h , k , l , assi dei lati del triangolo.
- Con lo strumento **Intersezione di due oggetti**,  applicato ad almeno due degli assi, determina il punto **D**, **CIRCOCENTRO** del triangolo (fig 8).



Osserva il movimento ...

- Seleziona  ;
- Afferra un vertice del triangolo e muovilo: puoi osservare che il punto **D** si sposta sia all'interno sia all'esterno del triangolo (fig 9).