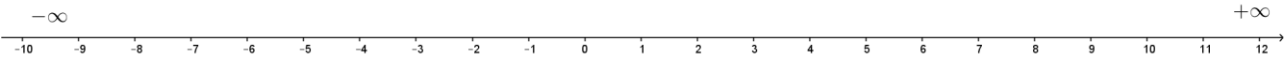


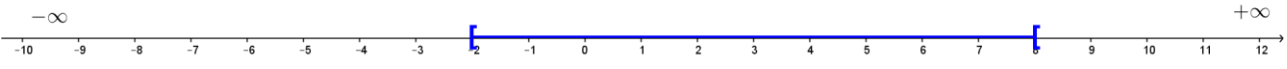
Nom :


Inégalités - Exercices

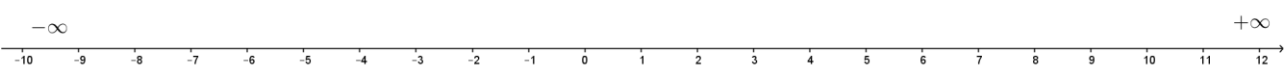
Exercice 1

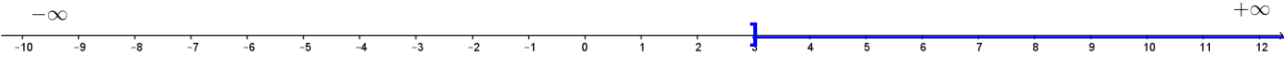
Compléter le tableau suivant le modèle :


Inégalité : $x < 2$	Intervalle :
Représentation :	
	


Inégalité :	Intervalle :
Représentation :	
	

Inégalité :	Intervalle : $x \in]-2 ; +\infty[$
Représentation :	
	

Inégalité : $-1 \leq x \leq 2$	Intervalle :
Représentation :	
	

Inégalité :	Intervalle :
Représentation :	
	

Inégalité : $x > 1$	Intervalle :
Représentation :	
	

Inégalité :	Intervalle : $x \in [-1 ; 2]$
Représentation :	
	

Inégalité : $-7 < x < 6$	Intervalle :
Représentation :	
