



BUKAERA FITXA

1. Ondorengo irudiko karratuan 4 bola daude (bolak zenbatu gabe):




- a) Bola gorri kopurua:
- b) Bola urdin kopurua:
- c) Bola berde kopurua:

2. Ondorengo irudiko karratuan 9 bola daude (bolak zenbatu gabe):



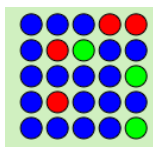
- a) Bola gorri kopurua:
- b) Bola urdin kopurua:
- c) Bola berde kopurua:

3. Ondorengo irudiko karratuan 16 bola daude (bolak zenbatu gabe):




- a) Bola gorri kopurua:
- b) Bola urdin kopurua:
- c) Bola berde kopurua:

4. Ondorengo irudiko karratuan 25 bola daude (bolak zenbatu gabe):




- a) Bola gorri kopurua:
- b) Bola urdin kopurua:
- c) Bola berde kopurua:

5. Ondorengo irudiko karratuan (bolak zenbatu gabe):




- a) Bola gorri kopurua:
- b) Bola urdin kopurua:
- c) Bola berde kopurua:

6. Ondorengo irudiko karratuan 4 bola daude (bolak zenbatu gabe):




- a) Bola gorrien arrazoia guztiekiko:
- b) Bola urdinen arrazoia guztiekiko:
- c) Bola berdeen arrazoia guztiekiko:

7. Ondorengo irudiko karratuan 9 bola daude (bolak zenbatu gabe):



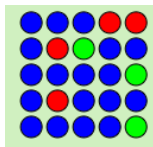
- a) Bola gorrien arrazoia guztiekiko:
- b) Bola urdinen arrazoia guztiekiko:
- c) Bola berdeen arrazoia guztiekiko:

8. Ondorengo irudiko karratuan 16 bola daude (bolak zenbatu gabe):




- a) Bola gorrien arrazoia guztiekiko:
- b) Bola urdinen arrazoia guztiekiko:
- c) Bola berdeen arrazoia guztiekiko:

9. Ondorengo irudiko karratuan 25 bola daude (bolak zenbatu gabe):



- a) Bola urdinen arrazoia bola urdinekiko:
- b) Bola gorrien arrazoia bola urdinekiko:
- c) Bola laranjaen arrazoia bola urdinekiko:
- d) Bola urdinen arrazoia bola laranjaekiko:

10. Ondorengo irudiko karratuan (bolak zenbatu gabe):



- a) Bola urdinen arrazoia bola urdinekiko:
- b) Bola gorrien arrazoia bola urdinekiko:
- c) Bola laranjaen arrazoia bola urdinekiko:
- d) Bola urdinen arrazoia bola laranjaekiko: