
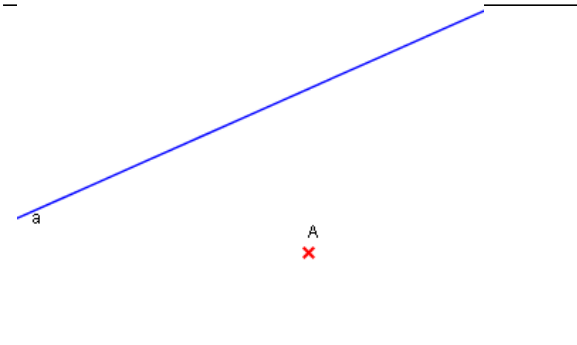
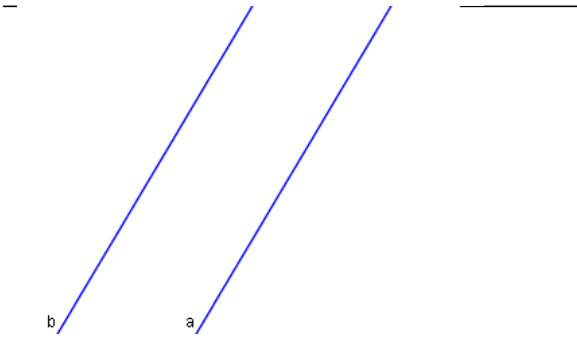




Abstände - Bestimmen und einzeichnen

Der Abstand zwischen zwei Objekten ist immer _____

Zeichnung	So geht's
	<p><u>Abstand zwischen zwei Punkten bestimmen</u></p> <ol style="list-style-type: none"> 1. Verbindungslinie einzeichnen 2. Länge der Linie messen
	<p><u>Abstand eines Punktes zu einer Geraden bestimmen</u></p> <ol style="list-style-type: none"> 1. 2. 3.
	<p><u>Abstand zweier Geraden zueinander</u></p> <ol style="list-style-type: none"> 1. 2. 3. 4.
Zeichnung	Wo liegen alle Punkte ...
	<p>... die von einem <u>Punkt A</u> einen Abstand von 1,5 cm haben?</p>
	<p>... die von einer <u>Geraden a</u> einen Abstand von 1,5 cm haben?</p> <p><u>So geht's:</u></p> <ol style="list-style-type: none"> 1. 2. 3.