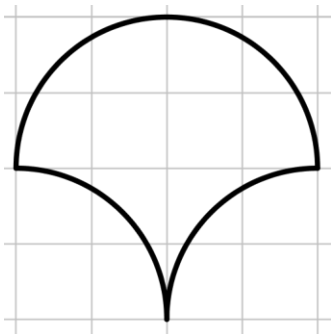


姓名：_____ () 班別：_____ 日期：_____

6M2 求圖形的周界 (每一小格邊長為 3.5cm)

1.

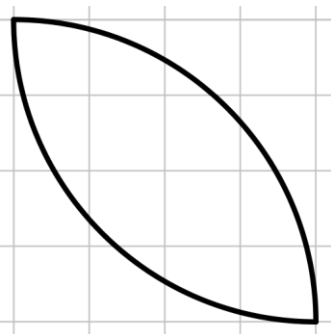


方法一

繪圖

方法二

2.

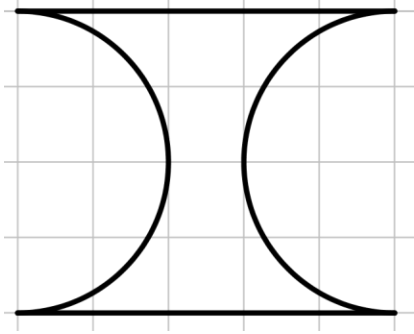


方法一

繪圖

方法二

3.

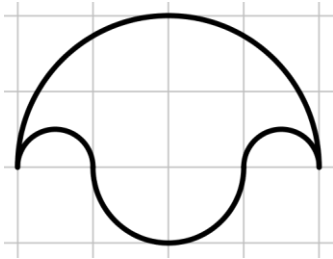


方法一

繪圖

方法二

4.



方法一

繪圖

方法二