

剩下時針的鐘面

姓名：_____ () 班別：_____ 日期：_____

子晴的鐘面只剩下時針，你能夠幫助讀出時間嗎？

請在鐘面上繪畫分針的位置。

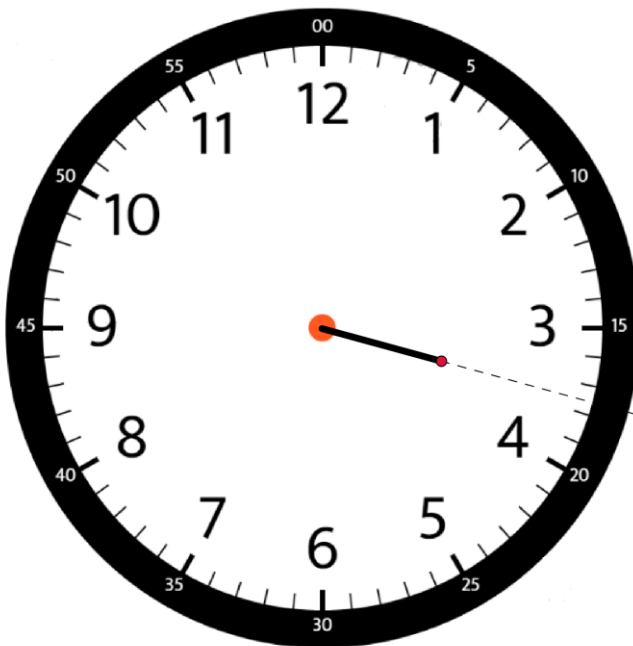
1.



時針指正_____。

時間大約是_____時_____分。

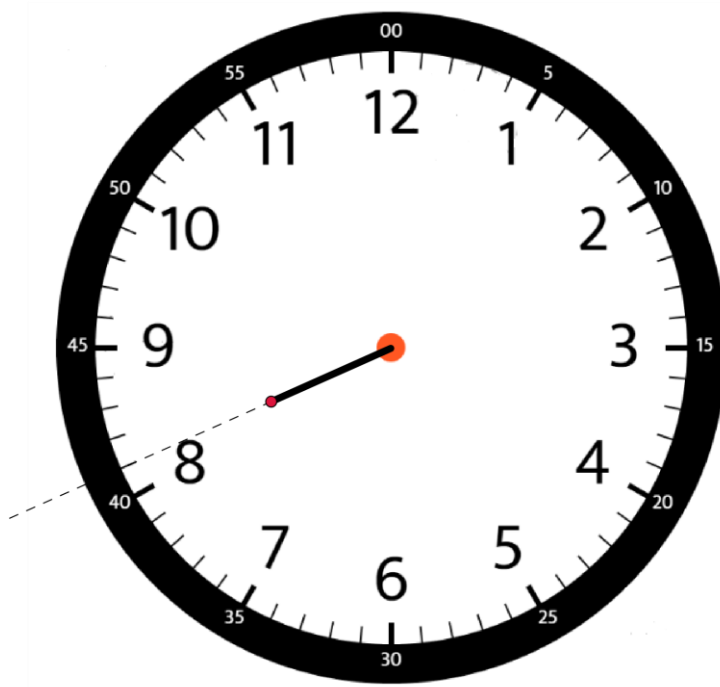
2.



時針在_____與_____
中間。

時間大約是_____時_____分。

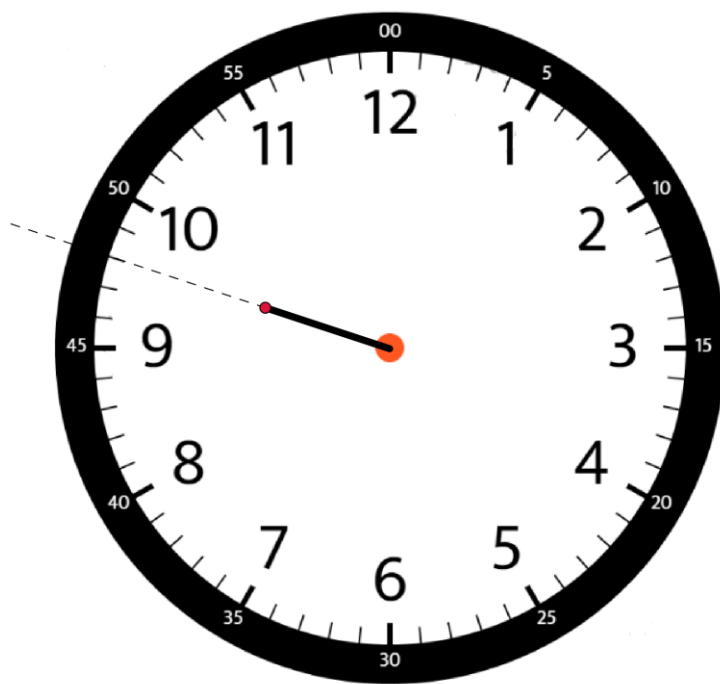
3.



時針在_____與_____
之間，距離_____多走
了_____小格。

時間大約是_____時_____分。

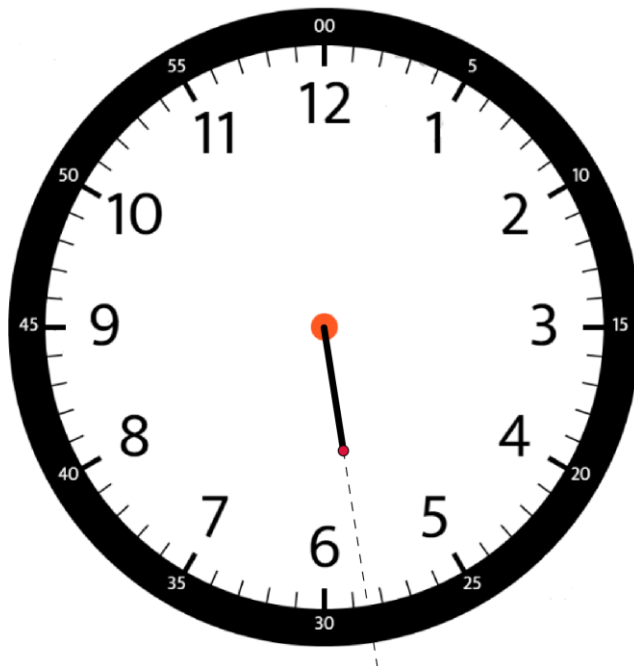
4.



時針在_____與_____
之間，距離_____多走
了_____小格。

時間大約是_____時_____分。

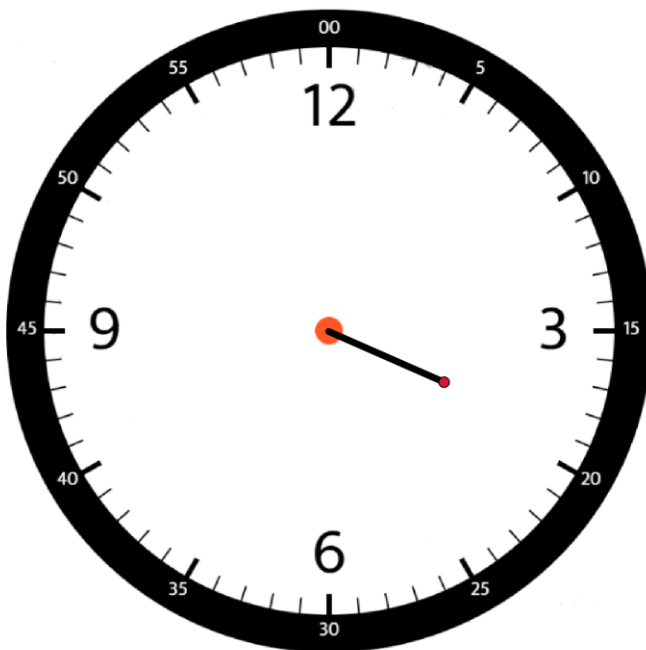
5.



時針在_____與_____
之間，距離_____走了
_____小格再多一些。

時間大約是_____時_____分。

6.



時針在_____與_____
之間，距離_____多走
了_____小格。

時間大約是_____時_____分。

Interactive Clock/Telling Time

<https://toytheater.com/clock>

Clockface

<https://www.geogebra.org/m/msw2ga8>

