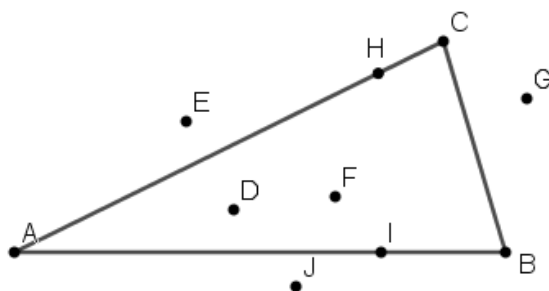


## ZADACI ZA VJEŽBU

1. Koje od točaka pripadaju trokutu?

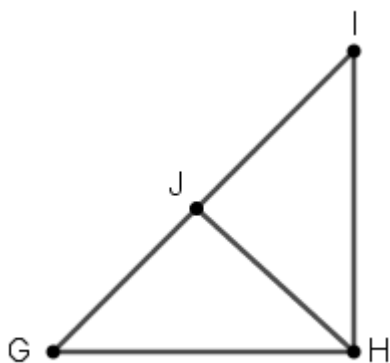


1. Nacrtaj trokut  $\triangle MIŠ$ . Označi njegove osnovne elemente te izračunaj opseg trokuta.

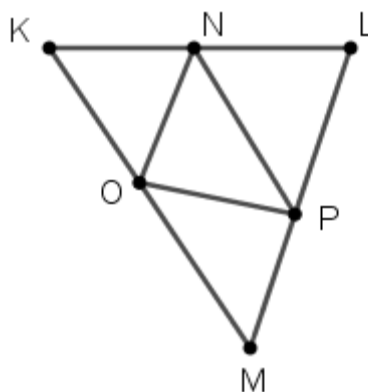
2. Nacrtaj trokut  $\triangle SAT$ . Označi njegove osnovne elemente te izračunaj opseg trokuta.

3. Pogledaj sljedeće sličice i pokušaj ispisati što više trokuta.

a.



b.



4. Izračunaj opseg trokuta ako su zadane duljine stranica:

a.

$$\begin{aligned}|AB| &= 18 \text{ mm} \\ |BC| &= 30 \text{ mm} \\ |CA| &= 16 \text{ mm}\end{aligned}$$

b.

$$\begin{aligned}k &= 50 \text{ mm} \\ a &= 35 \text{ mm} \\ p &= 72 \text{ mm}\end{aligned}$$

5. Navedi vrste trokuta koje ste obrađivali do sada. Nacrtaj ih.

Uputa: Ako pogledaš trokute iz geometrijskog pribora već imaš dva trokuta od poznatih tri.