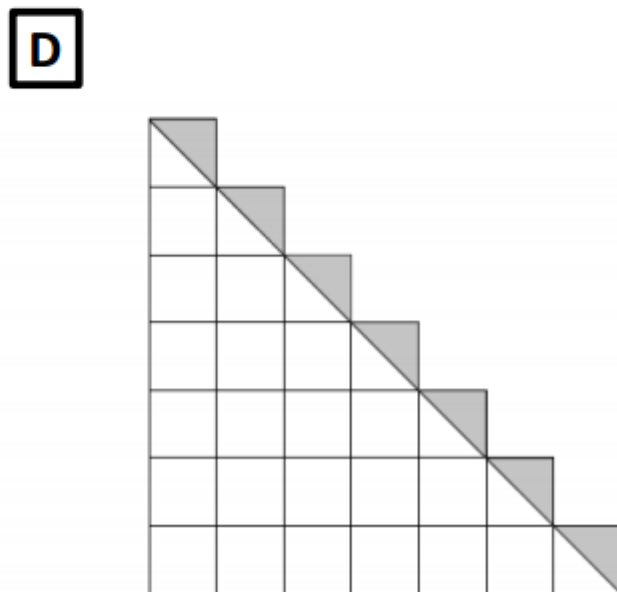





Summenformeln

Teil 1:

Hier sehen Sie 4 grafische Beweise. Jeweils zwei stellen eine Veranschaulichung für dieselbe Summenformel dar.

Finden Sie die Paare und die entsprechende Summenformel.



Teil 2:

Öffnen Sie das GeoGebraBook „Proofs without words“ und versuchen Sie für die Applets des Kapitels „Summenformeln“ die entsprechenden Formeln zu finden. (Verwenden Sie für Visual Proof 2 und Visual Proof 3 das Ergebnis aus Visual Proof 1.)