

# Het begrip afgeleide

www.karelappeltans.be

February 12, 2024

## 1 Herhaling rico van een rechte

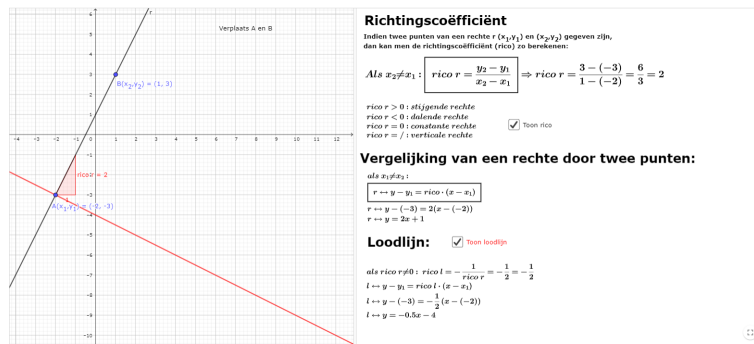


Figure 1: <https://www.geogebra.org/m/V6dh2XPP>

## 2 Gemiddelde verandering over een interval

### 2.1 Begripsvorming

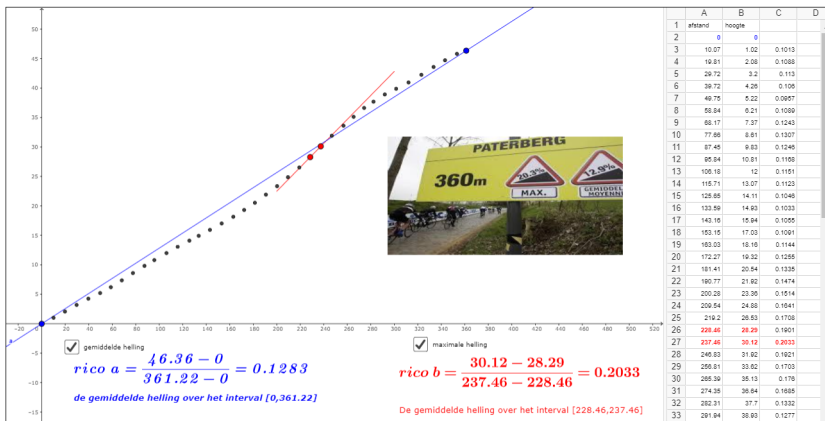


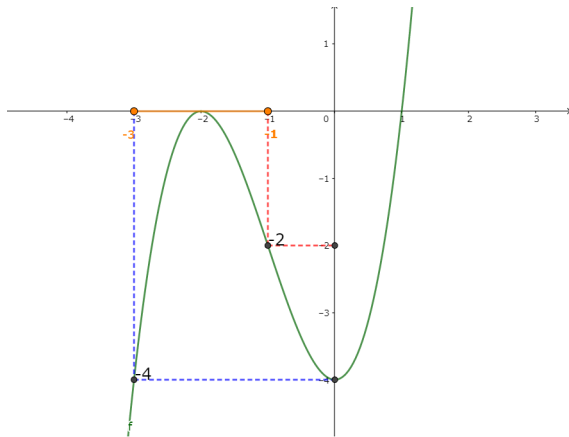
Figure 2: <https://www.geogebra.org/m/Bt3aCMHz>

### 2.2 Differentiequotiënt

De gemiddelde verandering of differentiequotiënt van een continue functie  $f$  over het interval  $[a, b]$ :

$$\frac{f(b) - f(a)}{b - a}$$

M.a.w. dit is de rico van de rechte door de punten  $P(a, f(a))$  en  $Q(b, f(b))$



Differentiequotient

$$f(x) = x^3 + 3x^2 - 4$$

$$a = -3 \quad b = -1$$

over het interval  $[a;b] = [-3; -1]$

$$\frac{f(b) - f(a)}{b - a} = \frac{-2 - (-4)}{-1 - (-3)} = \frac{2}{2} = 1$$

Dit is de rico van de rechte r door de punten  $(a, f(a))$  en  $(b, f(b))$

toon rechte

Figure 3: <https://www.geogebra.org/m/Bt3aCMHz>

### 3 Ogenblikkelijke verandering in een punt

#### 3.1 Definitie afgeleide in een punt

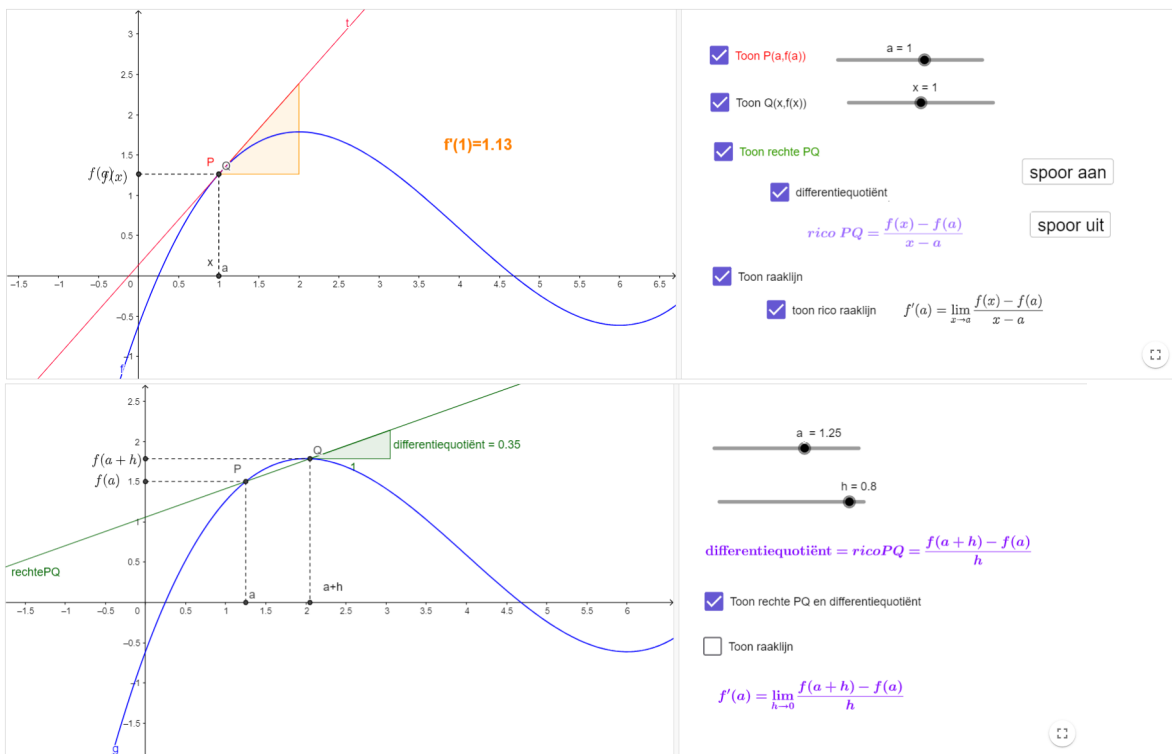


Figure 4: <https://www.geogebra.org/m/NGkF3XS6>

### 3.2 Berekening $f'(a)$ met behulp van definitie

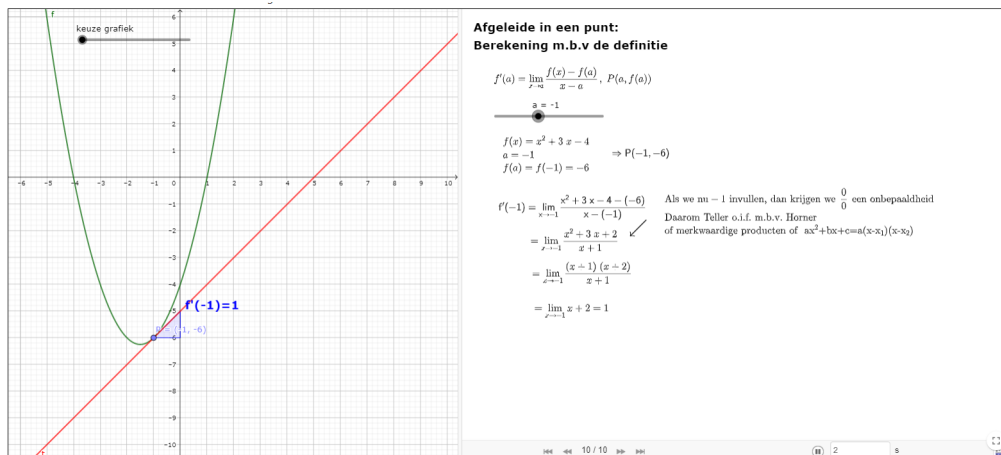


Figure 5: <https://www.geogebra.org/m/NGkF3XS6>

### 4 Rekenregel voor $x^n, n \in \mathbb{Q}$

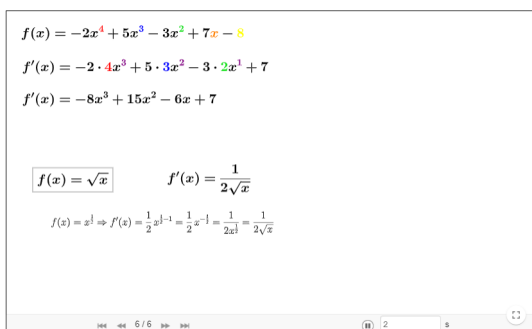


Figure 6: <https://www.geogebra.org/m/zdynkwv5>

### 5 Alternatieve notaties

Voorbeeld:  $f(x) = x^3 + 3x^2 - 4$

Notatie 1:  $f'(x) = 3x^2 + 6x$

Notatie 2:  $Df(x) = D(x^3 + 3x^2 - 4) = 3x^2 + 6x$

Notatie 3:  $\frac{df(x)}{dx} = \frac{d(x^3 + 3x^2 - 4)}{dx} = 3x^2 + 6x$

Notatie 4:  $\frac{dy}{dx} = 3x^2 + 6x$

## 6 Vergelijking raaklijn

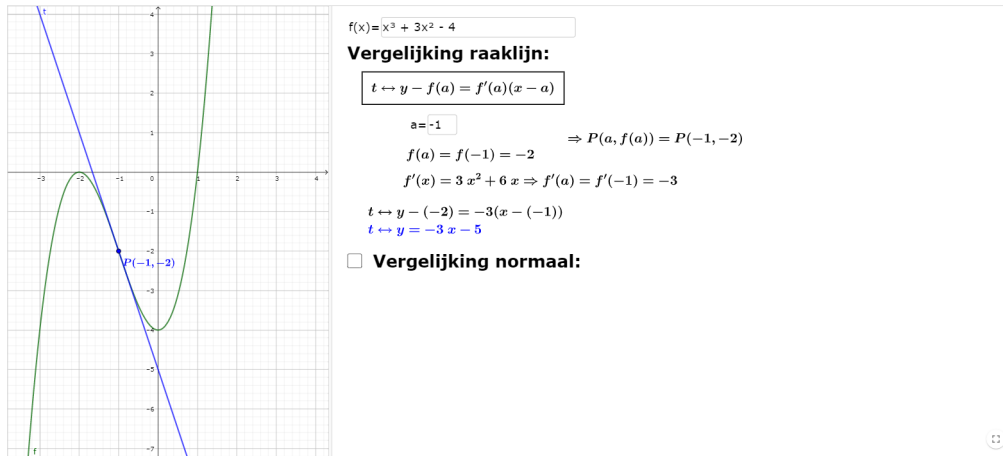


Figure 7: <https://www.geogebra.org/m/EscjM2Rh>

## 7 Toepassingen op raaklijn

### 7.1 Lineaire benadering

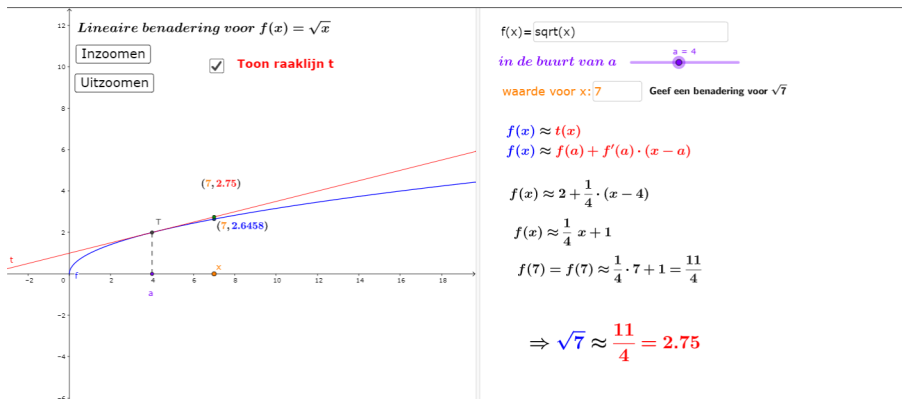


Figure 8: <https://www.geogebra.org/m/NwZHM6eQ>

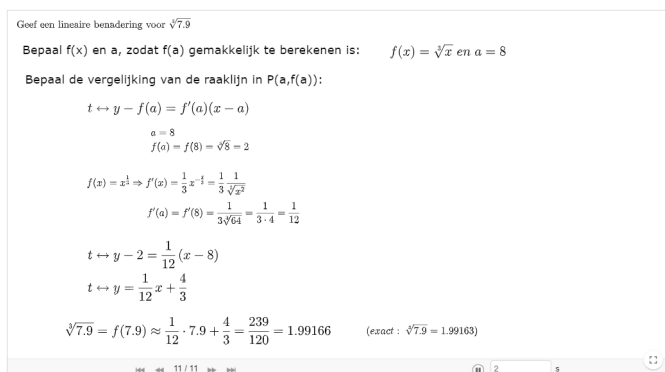


Figure 9: <https://www.geogebra.org/m/NwZHM6eQ>

## 7.2 Fouten propagatie

Er wordt een fout gemeten, in zeg bijvoorbeeld de zijde van een vierkant. Op welke manier zet deze fout zich door in de berekening van de oppervlakte en hoe kunnen we afschatting bekomen voor deze foutdoorzetting?

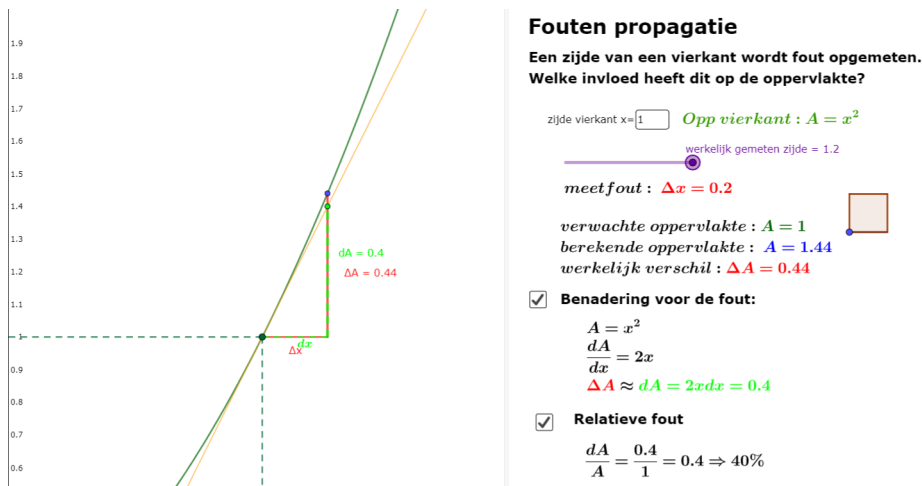


Figure 10: <https://www.geogebra.org/m/NwZHM6eQ>

## 7.3 Methode van Newton Raphson

Deze methode kan gebruikt worden om nulpunten van een functie iteratief te bepalen.

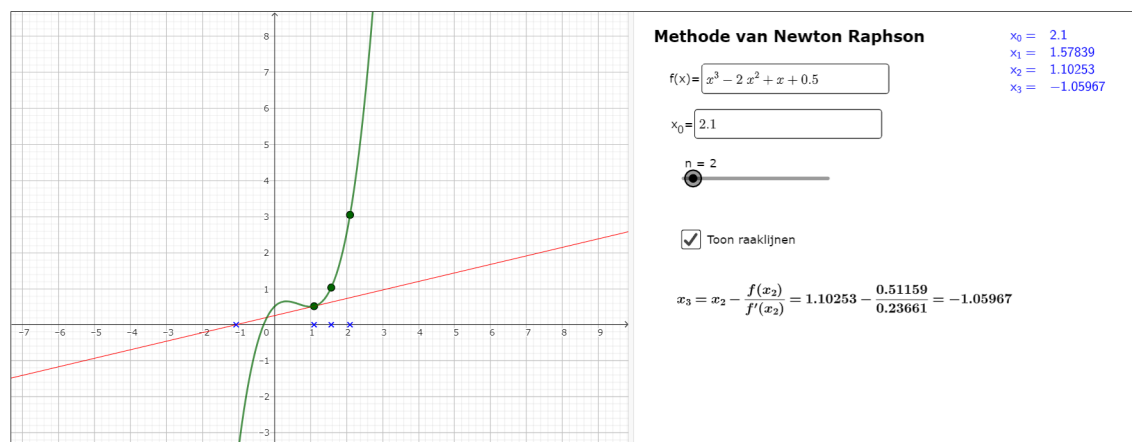


Figure 11: <https://www.geogebra.org/m/TGBSbRyf>

## 7.4 Economische toepassing: het begrip marginaliteit

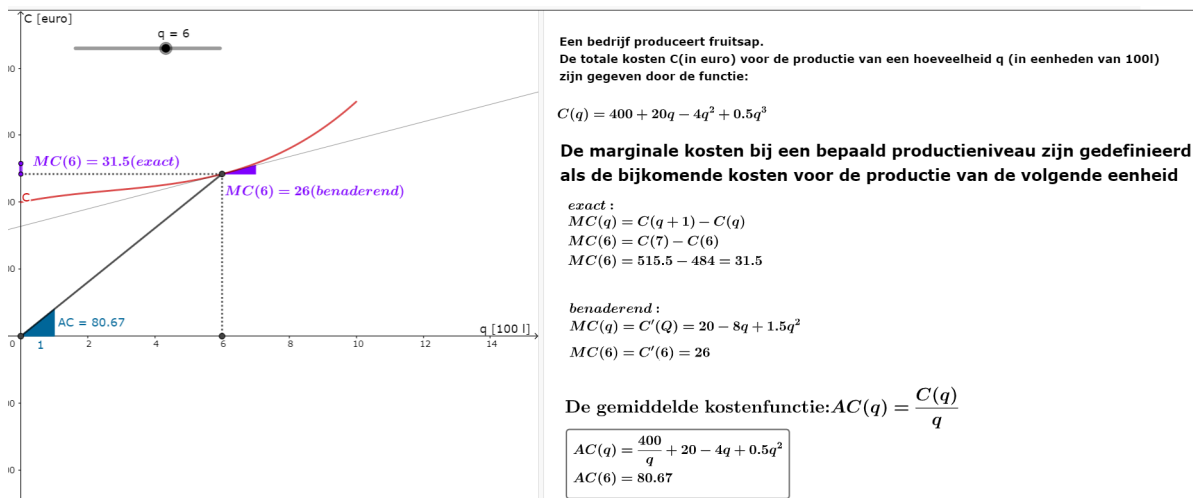


Figure 12: <https://www.geogebra.org/m/qVhQfWrd>

## 8 Afgeleide functie of hellingsfunctie

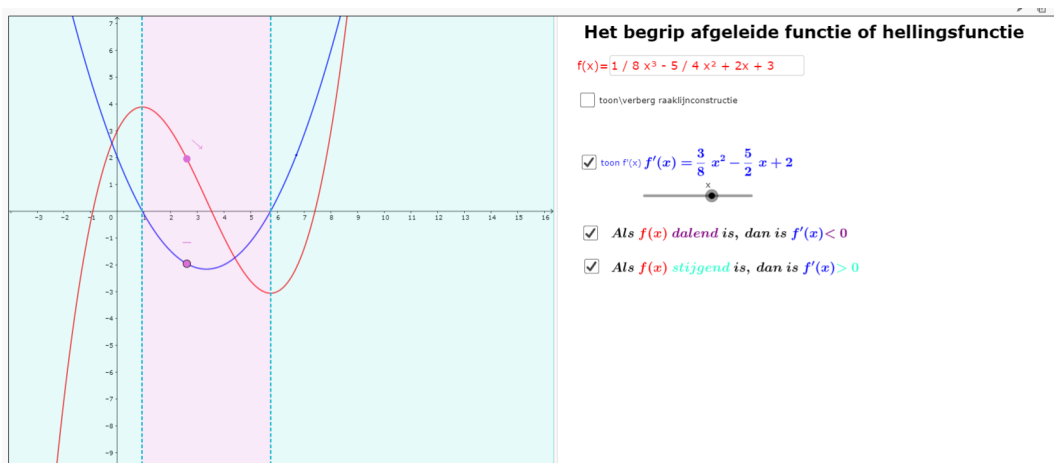


Figure 13: <https://www.geogebra.org/m/dWqwC5qd>

## 9 Tweede afgeleide

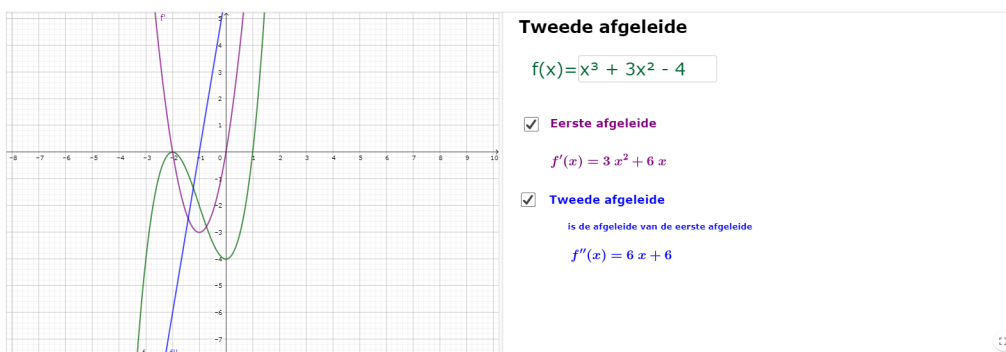


Figure 14: <https://www.geogebra.org/m/qt9vwxqv>

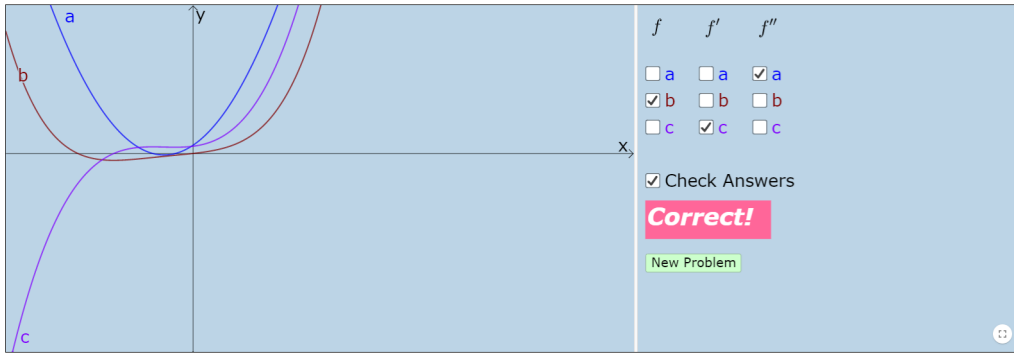


Figure 15: <https://www.geogebra.org/m/qt9vwxqv>

## 10 Toepassingen uit de fysica

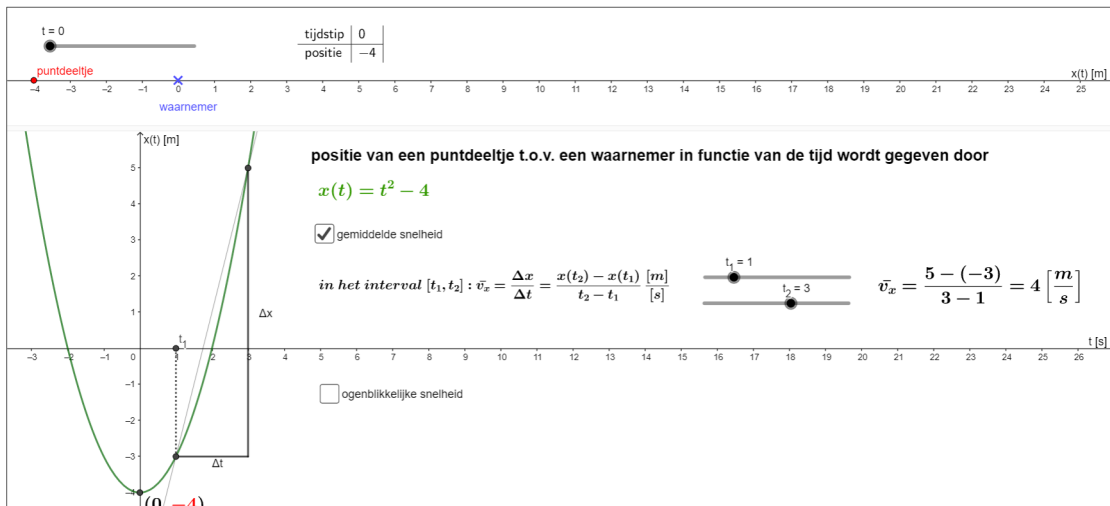


Figure 16: <https://www.geogebra.org/m/nsGgY8T3>

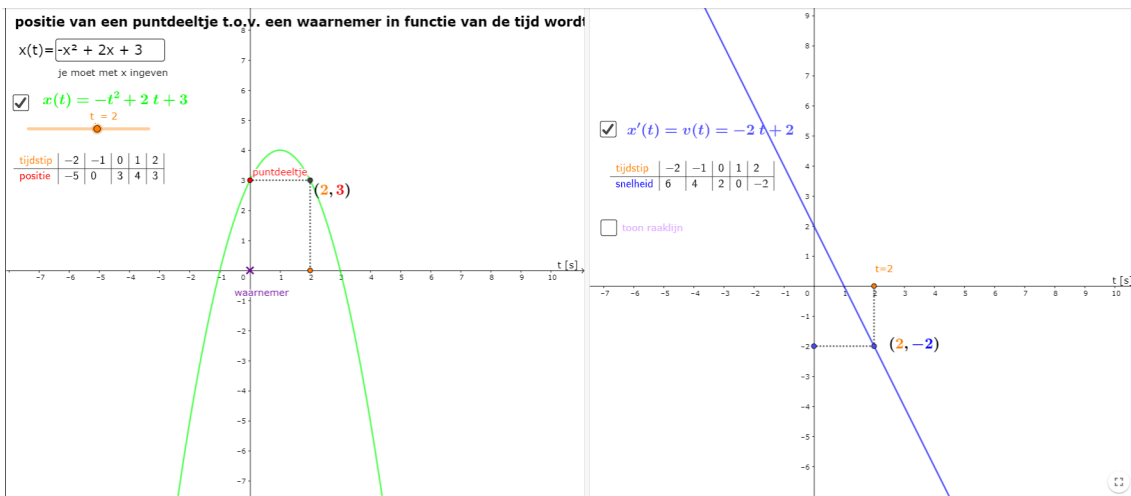


Figure 17: <https://www.geogebra.org/m/nsGgY8T3>

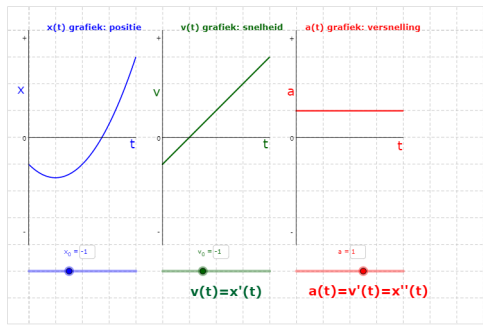


Figure 18: <https://www.geogebra.org/m/nsGgY8T3>

## 11 Niet alle functies zijn overal afleidbaar

### 11.1 Verticale raaklijn

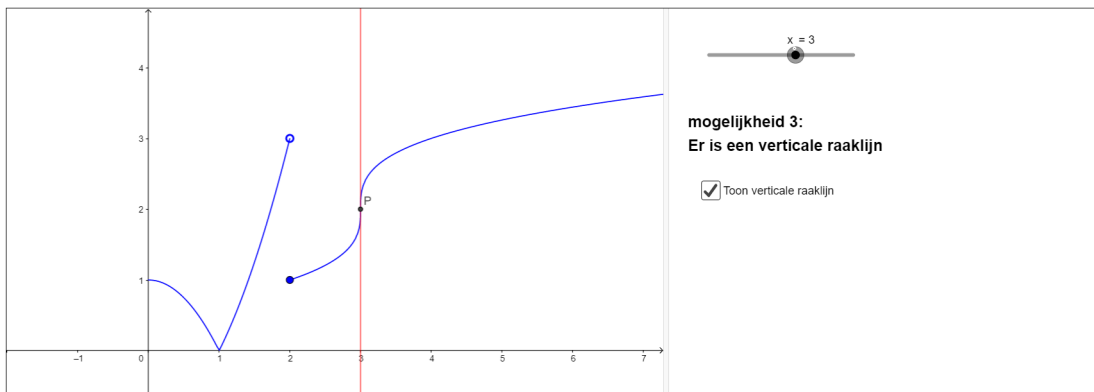


Figure 19: <https://www.geogebra.org/m/qfSuH6rn>

### 11.2 Linkerafgeleide is verschillend van rechterafgeleide

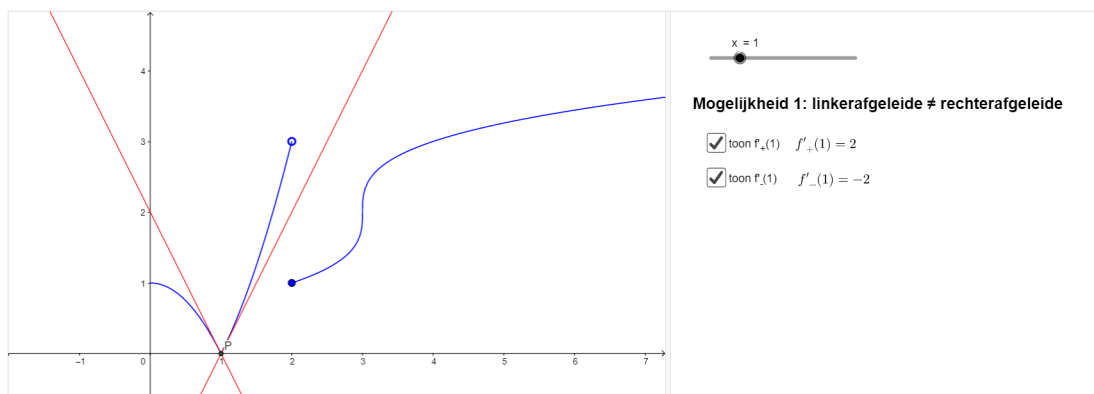


Figure 20: <https://www.geogebra.org/m/qfSuH6rn>



### 11.3 Niet continu

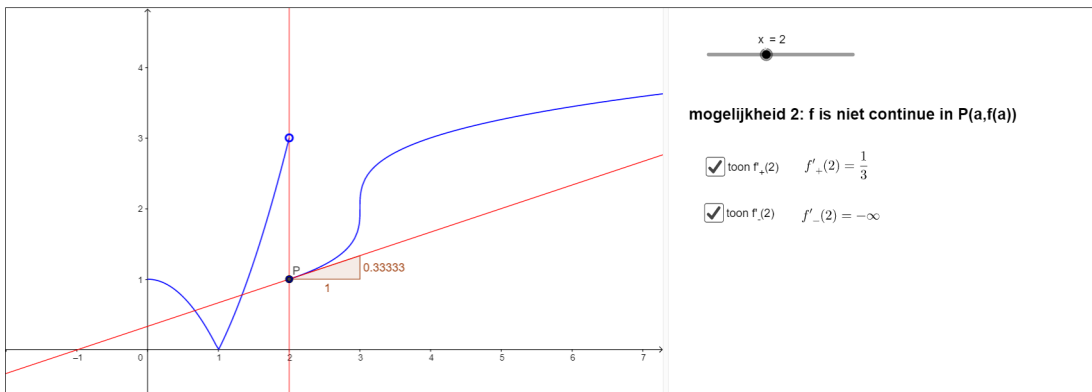


Figure 21: <https://www.geogebra.org/m/qfSuH6rn>

### 11.4 Voorbeelden

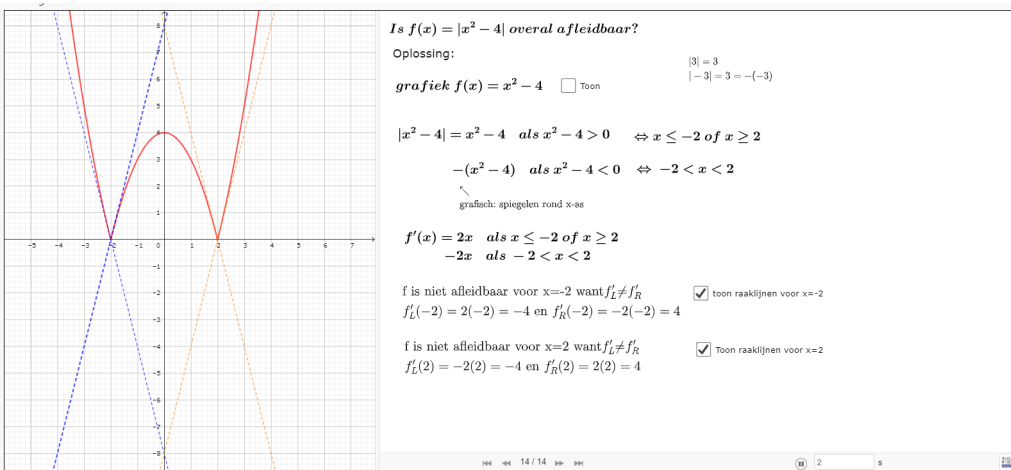


Figure 22: <https://www.geogebra.org/m/qfSuH6rn>

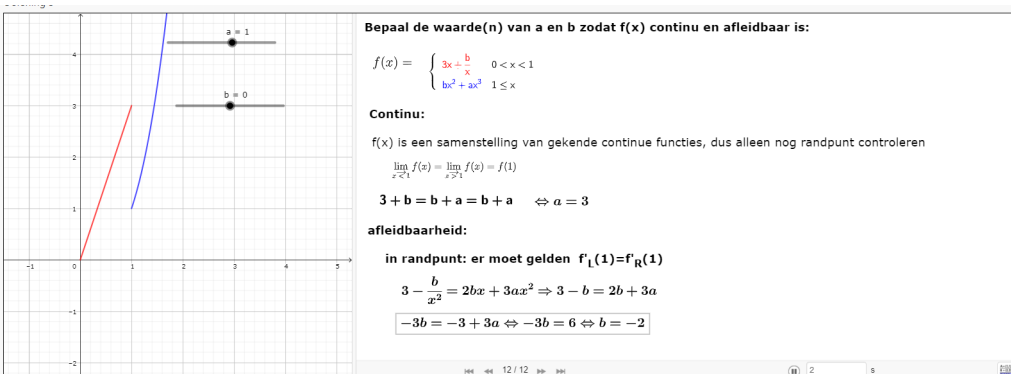


Figure 23: <https://www.geogebra.org/m/qfSuH6rn>

## 12 Continuïteit en afgeleide

**Continuïteit en afgeleide**

**Als f continue is in een interval I, dan is f ook afleidbaar in I**

Fout: neem bijv  $f(x) = |x^2 - 1|$

**Als f afleidbaar is in een interval I, dan is f ook continu in dat interval I**

juist, bewijs:

geg:  $a \in I$   $f'(a) = \lim_{x \rightarrow a} \frac{f(x) - f(a)}{x - a}$  bestaat

TB:  $\lim_{x \rightarrow a} f(x) = f(a)$

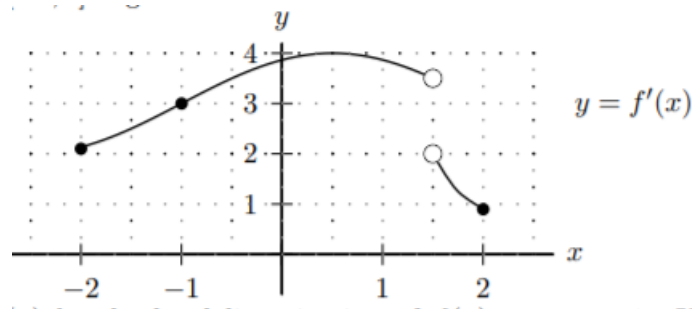
Bewijs:  $\lim_{x \rightarrow a} f(x) = \lim_{x \rightarrow a} f(x) - f(a) + f(a)$

$$= \lim_{x \rightarrow a} \frac{f(x) - f(a)}{x - a} \cdot (x - a) + f(a)$$
$$= \lim_{x \rightarrow a} \frac{f(x) - f(a)}{x - a} \cdot \lim_{x \rightarrow a} (x - a) + f(a)$$
$$= f'(a) \cdot \lim_{x \rightarrow a} (x - a) + f(a)$$
$$= f'(a) \cdot 0 + f(a) = f(a)$$

Figure 24: <https://www.geogebra.org/m/xqp6dj2p>

## 13 Oefeningen

- Bereken m.b.v. de definitie de afgeleide in de aangegeven punten
  - $f(x) = -x^2 + 3x - 4$ ,  $P(1, f(1))$
  - $f(x) = \sqrt{2x - 4}$ ,  $P(10, f(10))$
  - $f(x) = \frac{3}{x+1}$ ,  $P(-2, f(-2))$
- Bereken de afgeleide van onderstaande functies m.b.v. de rekenregel
  - $g(x) = 10x^5 - 7x^3 + 4x^{-6}$
  - $x(t) = 4t^3 - 3t^2 + 5t - 7$
  - $f(x) = x \cdot \sqrt{x} + 4x^5 - 8x + 9$
- Bereken de vergelijking van de raaklijn in het gegeven punt
  - $f(x) = 3x^2 - 4x + 7$ ,  $a = -2$
  - $f(x) = x^3 + 2\sqrt{x}$ ,  $a = 1$
  - $f(x) = \sqrt{x}$ ,  $a = 9$
  - $f(x) = \frac{1}{x}$ ,  $a = -1$
- Bepaal de vergelijking van de raaklijn aan  $f(x) = x^2$  die ook door het punt  $Q(3, 8)$  gaat.
- Bepaal de vergelijkingen van de raaklijnen aan  $f(x) = 2x^2$  die door het punt  $P(2, -10)$  gaan.  
(A.  $y = -4x + 2$ ,  $y = 20x - 50$ )
- Bepaal de rico van de raaklijn aan  $y = \sqrt{x}$  die de x-as snijdt in  $P(-1, 0)$
- Bepaal de vergelijking van de raaklijn aan  $y = x\sqrt{x}$  die evenwijdig is met de rechte  $y = 3x + 1$
- Geef een lineaire benadering voor:
  - $\sqrt{4.05}$
  - $\sqrt[3]{8.4}$
  - $\sqrt{16.03}$  met behulp van  $f(x) = \sqrt{x+9}$
- Gegeven is de grafiek van  $f'(x)$ . Gebruik deze samen met het feit dat  $f(-1) = 4$  om een lineaire benadering te geven voor  $f(-0.5)$



10. Geef een afschatting voor de absolute en relatieve fout
- van de inhoud van een kubus als een zijde  $30\text{cm}$  gemeten wordt, met een foutenmarge van  $0.1\text{ cm}$ .
  - van de opp van een cirkel met een gemeten straal van  $1\text{ m}$ , met een mogelijke foutmarge van  $0.04\text{m}$ . (A. absolute fout  $0.08\pi$ )
11. Ga na voor welke x-waarden volgende functies niet afleidbaar zijn:
- $f(x) = |x^2 - 4x - 5|$
  - $f(x) = \sqrt[3]{x-1}$
  - $f(x) = \lfloor \sqrt{x} \rfloor$
  - $f(x) = |x^2 - x|$
12. Voor hoeveel waarden van x, met  $x \in [0, 2]$  is  $f(x) = |x - \frac{1}{2}| + |x - 1| + \tan(x)$  niet afleidbaar?
13. Bepaal de waarde(n) van de parameters zodat volgende functies met meervoudig voorschrift in hun domein continu en afleidbaar zijn:

$$(a) f(x) = \begin{cases} x^2 - 2x - a & x < 1 \\ -x^2 + bx + 2 & x \geq 1 \end{cases}$$

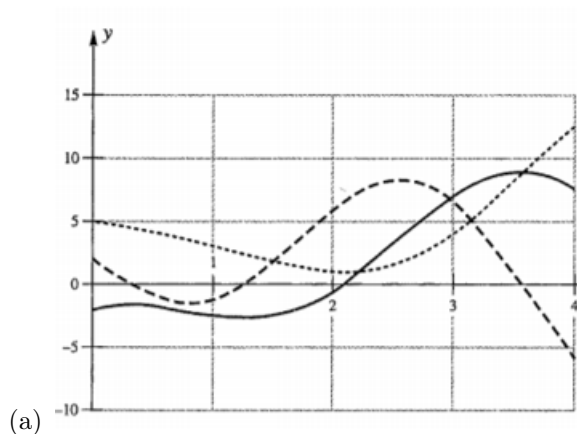
$$(b) f(x) = \begin{cases} 3x + \frac{B}{x} & 0 < x < 1 \\ Bx^2 + Ax^3 & 1 \geq x \end{cases}$$

$$(c) f(x) = \begin{cases} 2x + 1 & x \leq k \\ x^2 - 2ax + a^2 + 2 & x > k \end{cases}$$

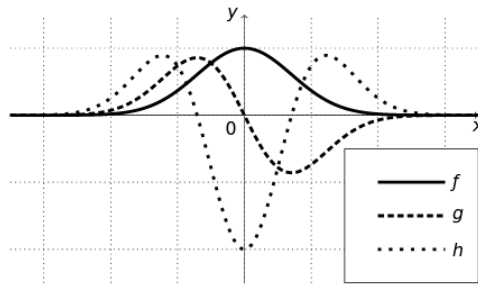
$$(d) f(x) = \begin{cases} x^2 - 2x - a & x < 1 \\ -x^2 + bx + 2 & x \geq 1 \end{cases}$$

$$(e) f(x) = \begin{cases} 3x + \frac{B}{x} & 0 < x < 1 \\ Bx^2 + Ax^3 & 1 \geq x \end{cases}$$

14. Bepaal in elke grafiek  $f(x)$ ,  $f'(x)$  en  $f''(x)$



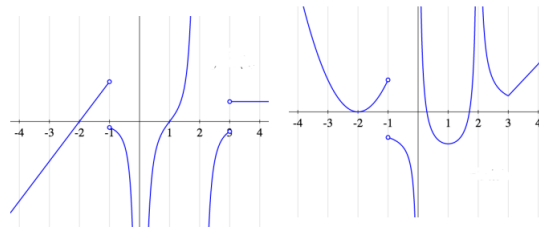
De onderstaande figuur toont de grafiek van drie verschillende reële functies  $f$ ,  $g$  en  $h$ . Eén van onderstaande verbanden is geldig, welk?



- (A)  $f = g' = h''$
- (B)  $f = h' = g''$
- (C)  $h = f' = g''$
- (D)  $h = g' = f''$

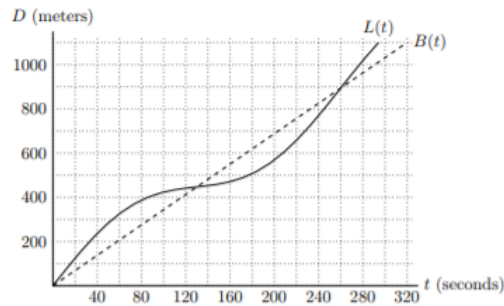
(b)

15. Gegeven zijn de grafieken van een functie en haar afgeleide functie. Wie is wie? Verklaar jullie antwoord.



16. Beantwoord onderstaande vragen

6. [11 points] Link and Boots decided to have a race down a straight portion of Pauline Boulevard that is 1.1 kilometers long. Let  $L(t)$  and  $B(t)$  be Link's and Boots's respective distances from their starting point  $t$  seconds after the race began. A graph of  $L(t)$  and  $B(t)$  is shown below.



a. [1 point] Who won the race? (Circle your answer.)

Link

Boots

b. [2 points] Estimate the times at which Link and Boots were running at the same speed.

c. [3 points] Estimate Link's average velocity over the first 100 seconds of the race. Include units.

d. [3 points] Estimate Link's instantaneous velocity 40 seconds after the race began. Include units.

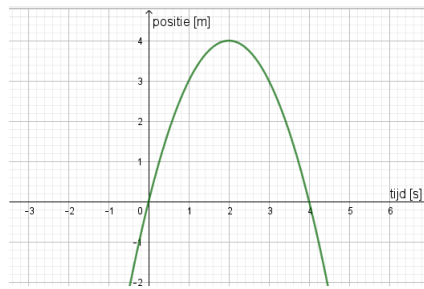
e. [2 points] 160 seconds after the race began, is Link's acceleration positive, negative, or equal to zero? (Circle your answer.)

positive

negative

zero

17. Gegeven is onderstaande  $x(t)$  – grafiek:



De versnelling is het grootst op

- (a)  $t = 2$  s
- (b)  $t = 0$  s
- (c)  $t = 0$  en  $t = 4$  s
- (d) overall even groot

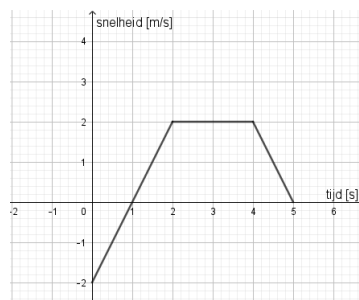
18. Gegeven  $x(t) = t^2 - 3t + 4$

- (a) Bepaal de gemiddelde snelheid in het interval  $[1, 3]$
- (b) Bepaal de ogenblikkelijke snelheid voor  $t = 2$

19. Gegeven  $x(t) = t - t^2, 0 \leq t \leq 5$

- (a) Waar bevindt zich dit puntdeeltje na 2 sec t.o.v. een waarnemer in de oorsprong?
- (b) Bepaal de gemiddelde snelheid in het interval  $[0, 5]$
- (c) Bepaal  $a(3)$ . Wat wordt hiermee bedoelt?

20. Gegeven is onderstaande  $v(t)$  – grafiek over het interval  $[0, 5]$  Bepaal de  $a(t)$  – grafiek in hetzelfde interval.



## 14 taken

1. definitie afgeleide
2. toepassingen op definitie