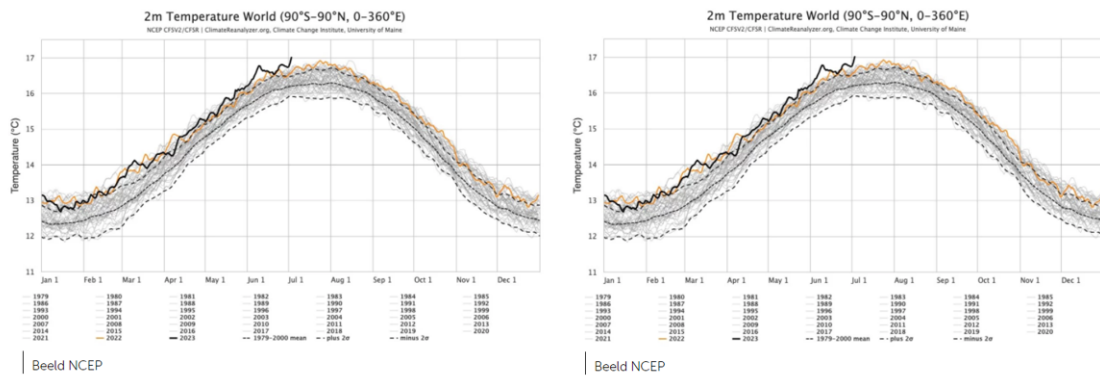


# Hoofdstuk IV: goniometrische functies

www.karelappeltans.be

June 29, 2024



## 1 De goniometrische cirkel

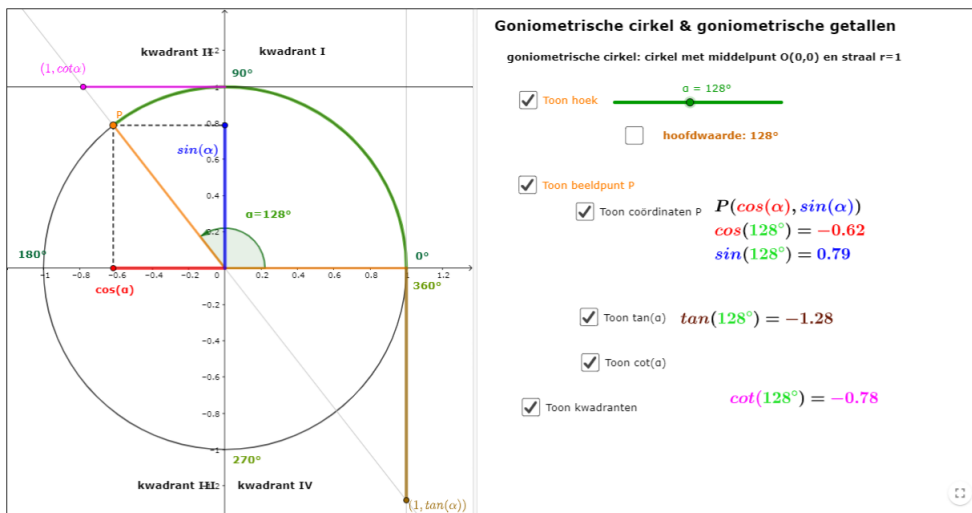


Figure 1: <https://www.geogebra.org/m/FrxhCwA>

## 2 De goniometrische getallen

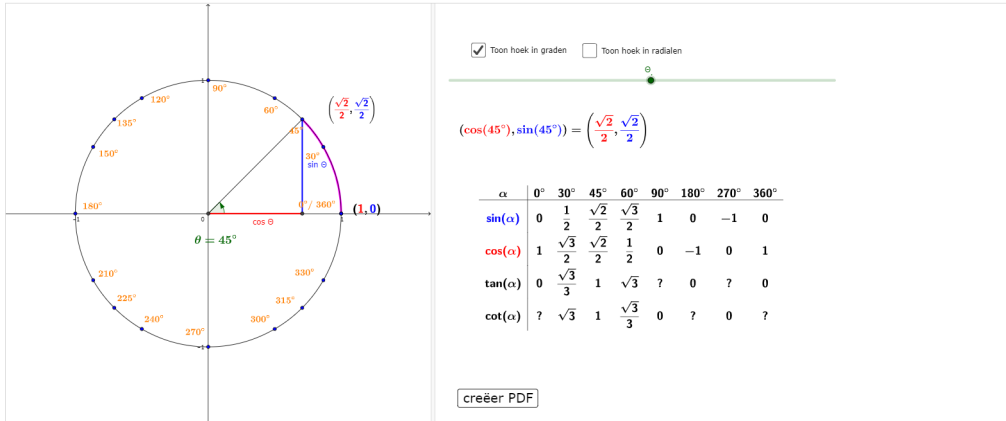


Figure 2: <https://www.geogebra.org/m/Frxehcwa>

## 3 De Radiaal

### 3.1 Definitie

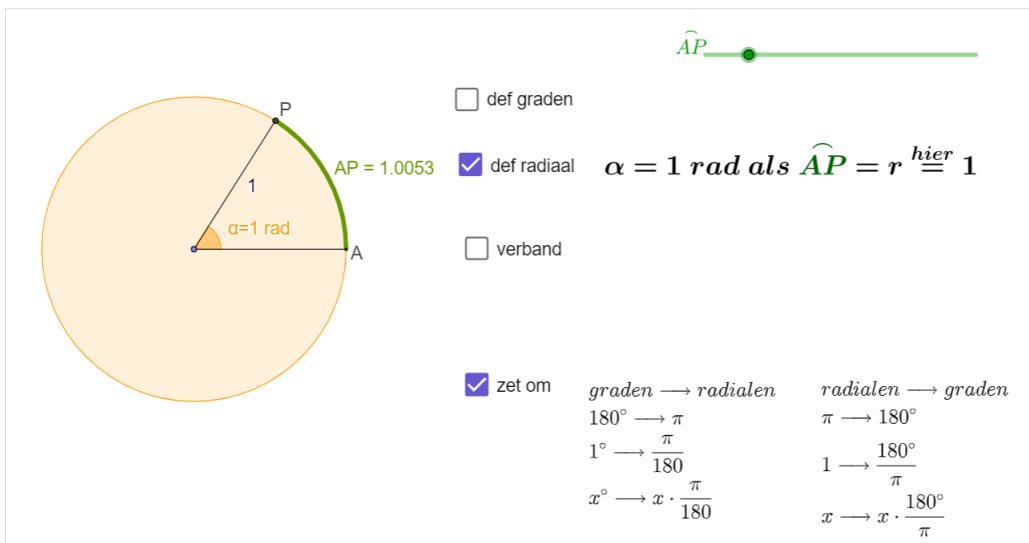


Figure 3: <https://www.geogebra.org/m/QjEWqdp3>

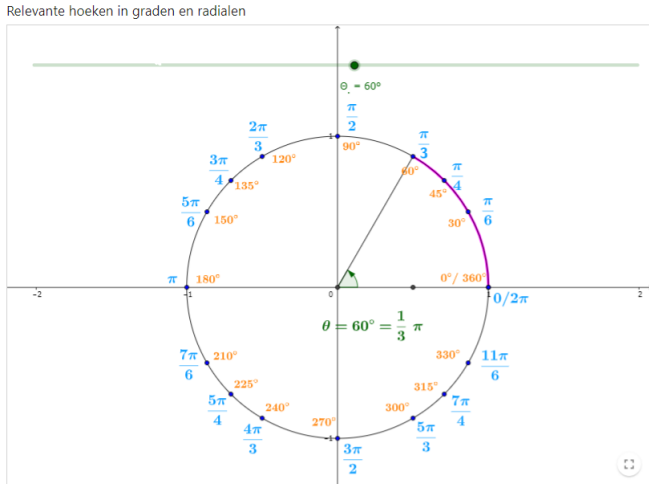


Figure 4: <https://www.geogebra.org/m/QjEWqdp3>

### 3.2 booglengte

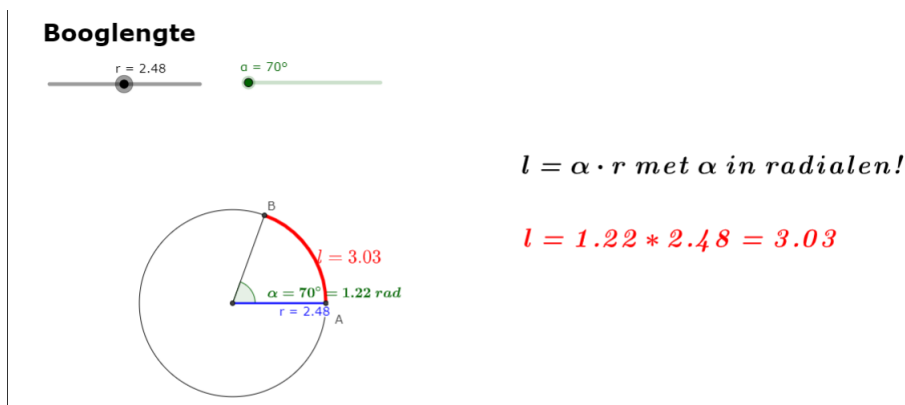


Figure 5: <https://www.geogebra.org/m/QjEWqdp3>

## 4 Verwante hoeken

### 4.1 supplementaire hoeken

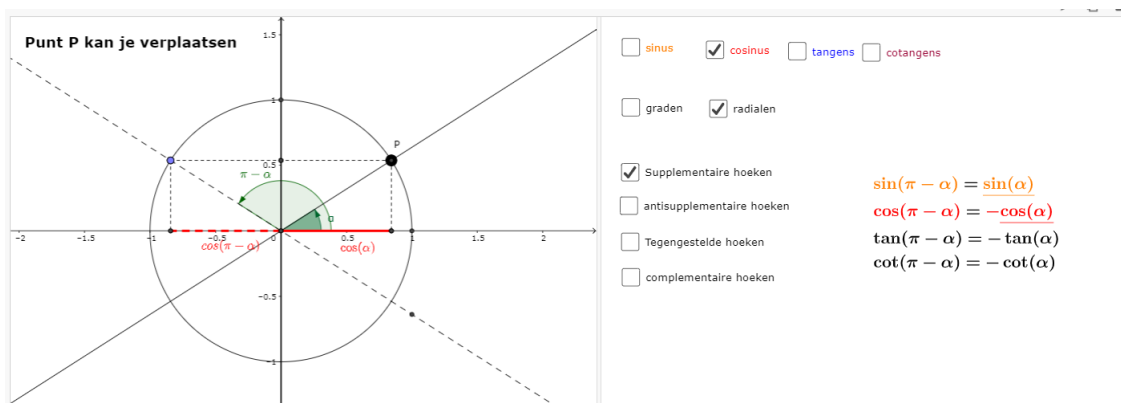


Figure 6: <https://www.geogebra.org/m/q27XXAeF>

## 4.2 antisupplementaire hoeken

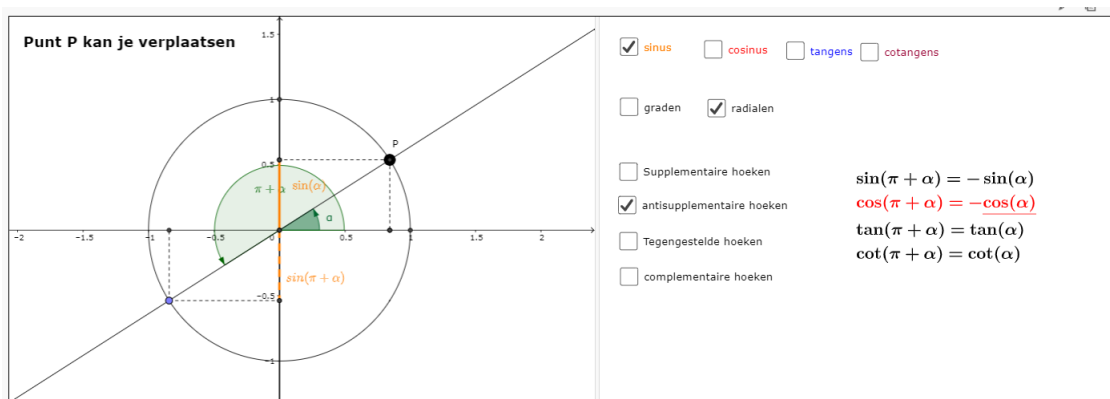


Figure 7: <https://www.geogebra.org/m/q27XXAeF>

## 4.3 tegengestelde hoeken

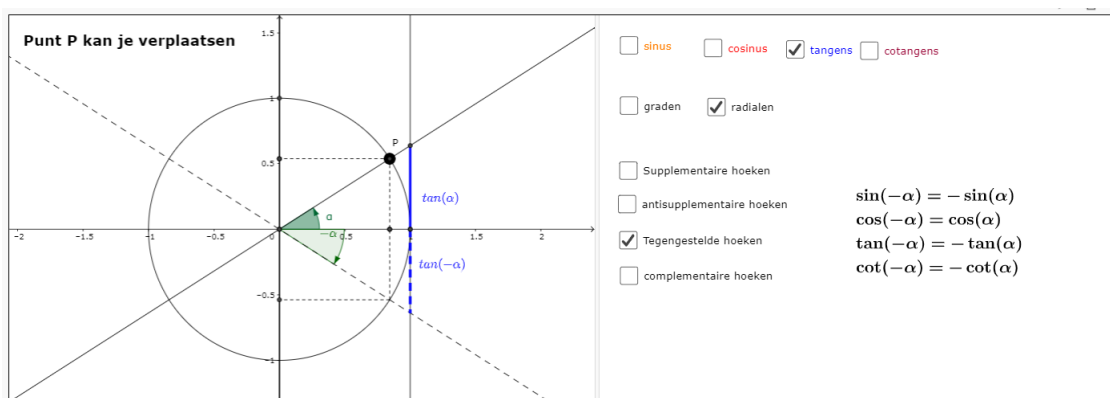


Figure 8: <https://www.geogebra.org/m/q27XXAeF>

## 4.4 complementaire hoeken

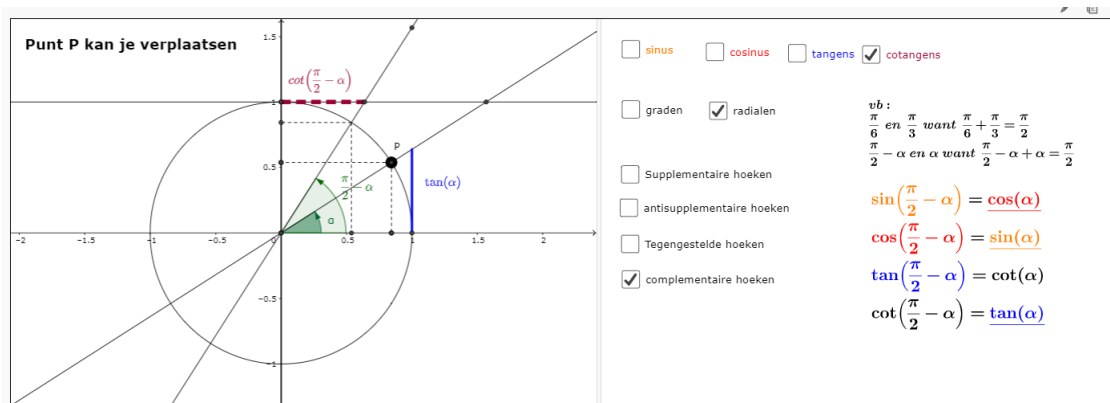


Figure 9: <https://www.geogebra.org/m/q27XXAeF>

## 4.5 willekeurige verwantschap

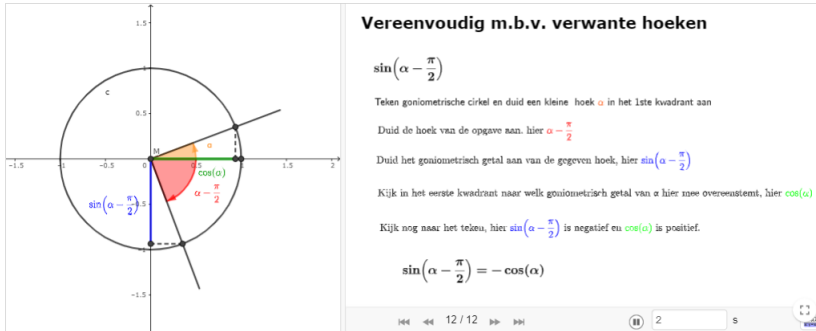


Figure 10: <https://www.geogebra.org/m/q27XXAeF>

## 5 Goniometrische functies

### 5.1 periodieke functies

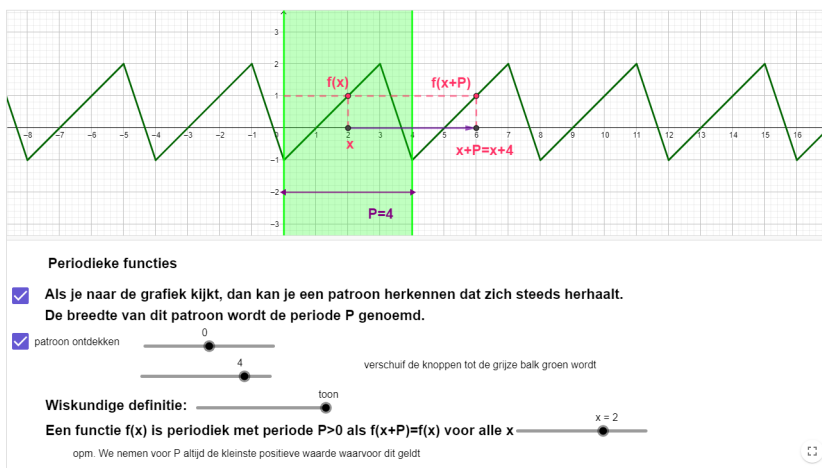


Figure 11: <https://www.geogebra.org/m/dqmct5ur>

### 5.2 $f(x) = \sin(x)$

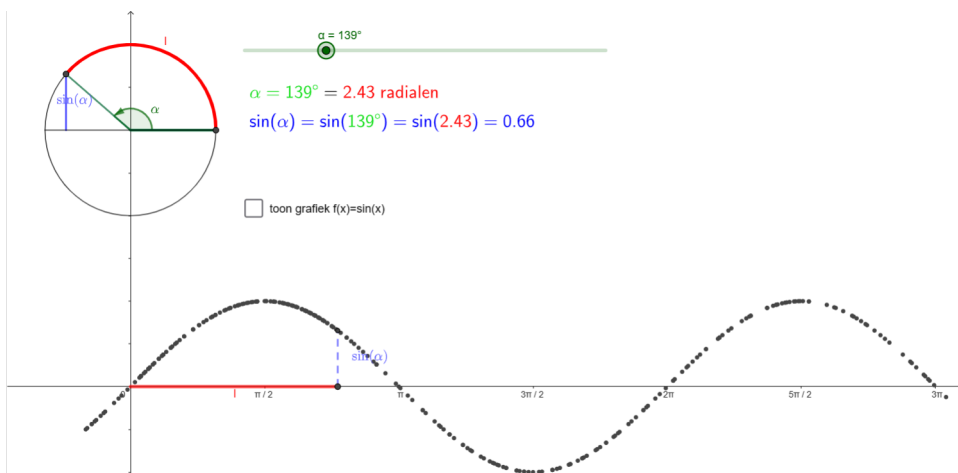


Figure 12: <https://www.geogebra.org/m/eeEyfQce>

Bespreking goniometrische basisfuncties

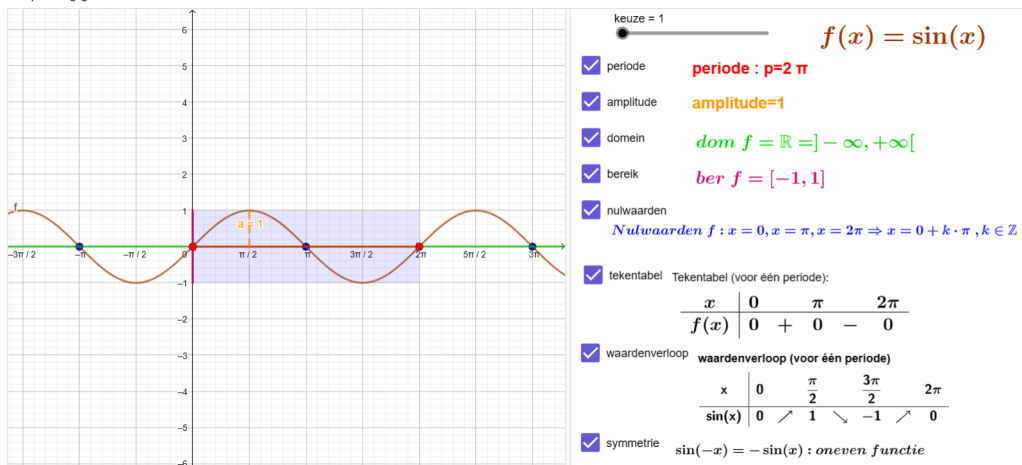


Figure 13: <https://www.geogebra.org/m/eeEyfQce>

### 5.3 $f(x)=\cos(x)$

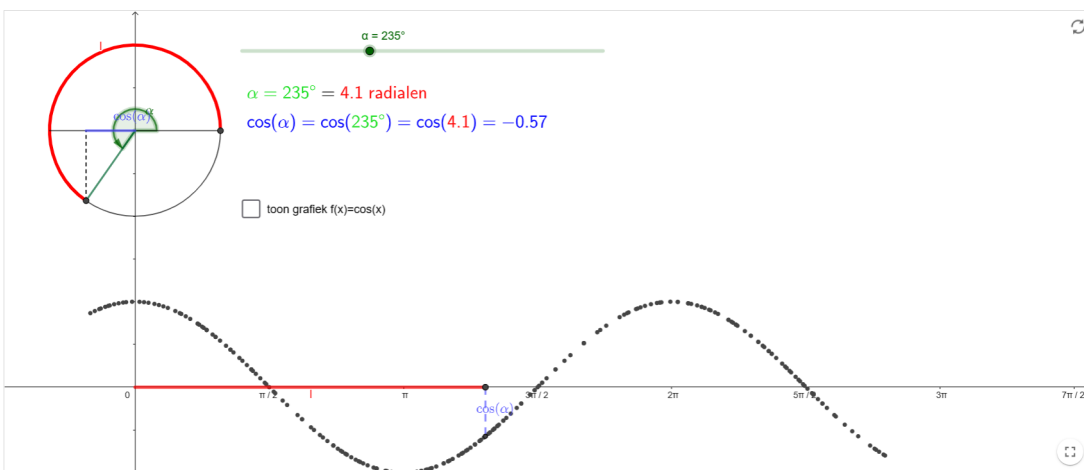


Figure 14: <https://www.geogebra.org/m/eeEyfQce>

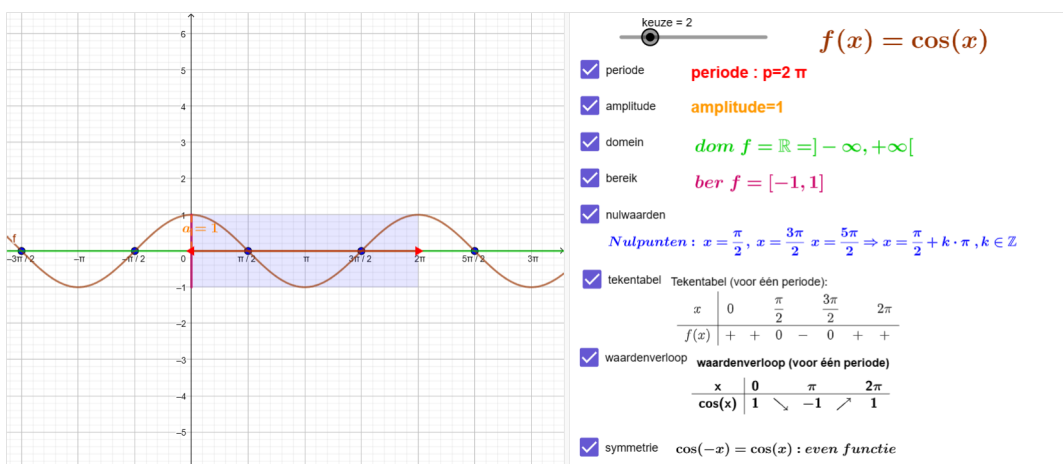


Figure 15: <https://www.geogebra.org/m/eeEyfQce>

## 5.4 $f(x)=\tan(x)$

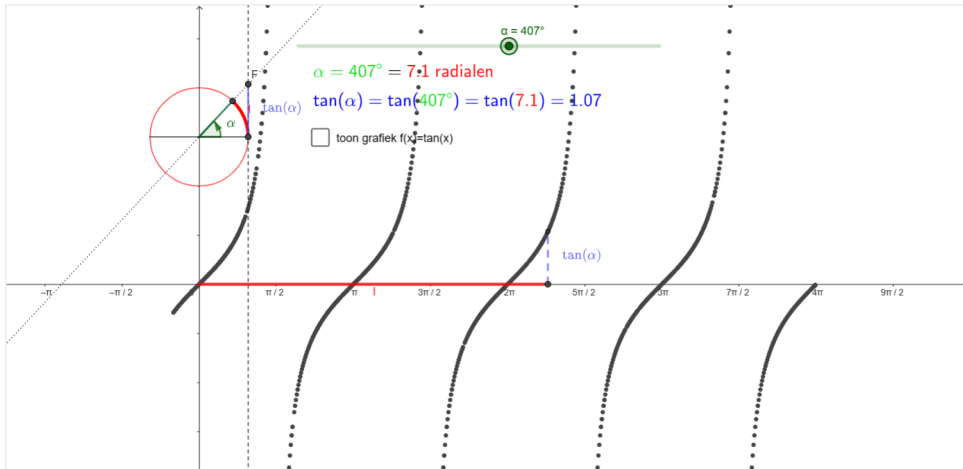


Figure 16: <https://www.geogebra.org/m/eeEyfQce><https://www.geogebra.org/m/eeEyfQce>

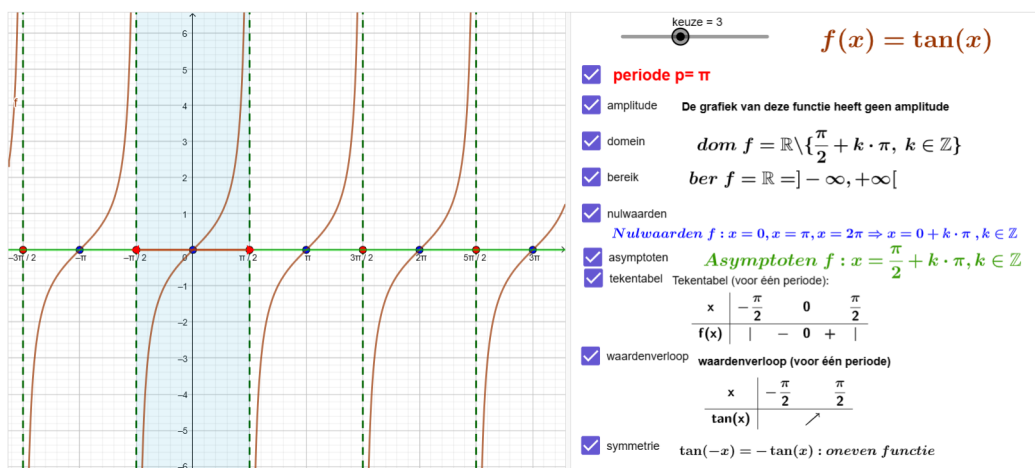


Figure 17: <https://www.geogebra.org/m/eeEyfQce><https://www.geogebra.org/m/eeEyfQce>

# 6 Algemene sinusfunctie

## 6.1 functievoorschrift

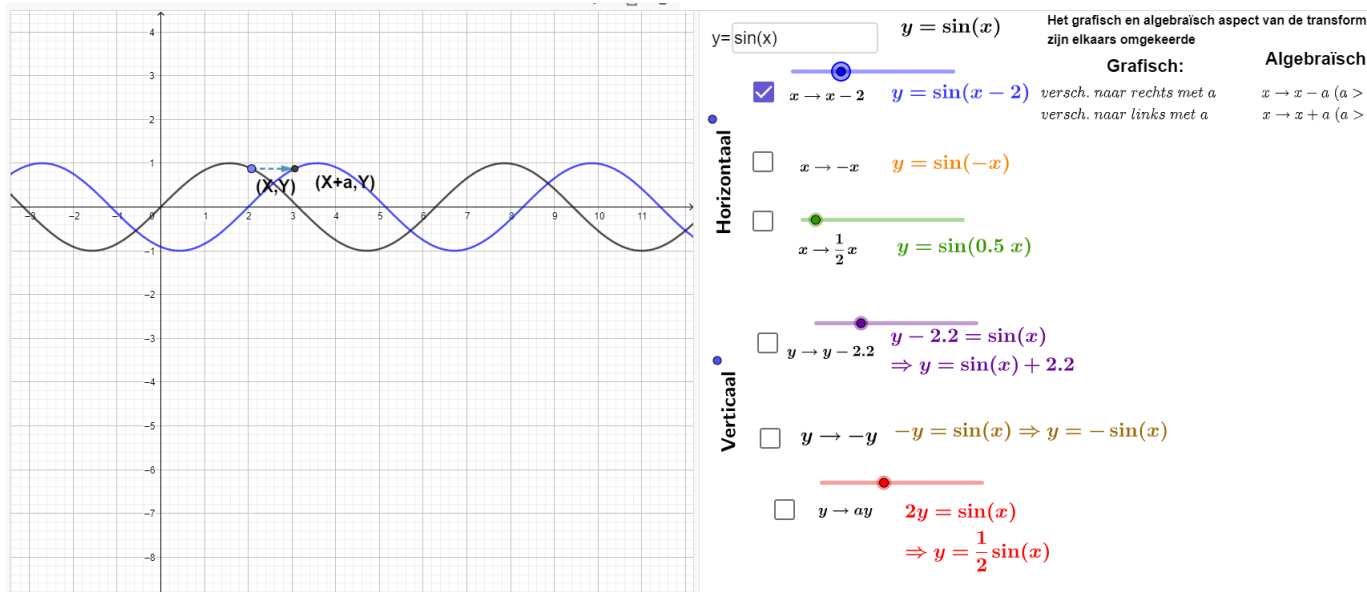


Figure 18: <https://www.geogebra.org/m/mq5zh8t>

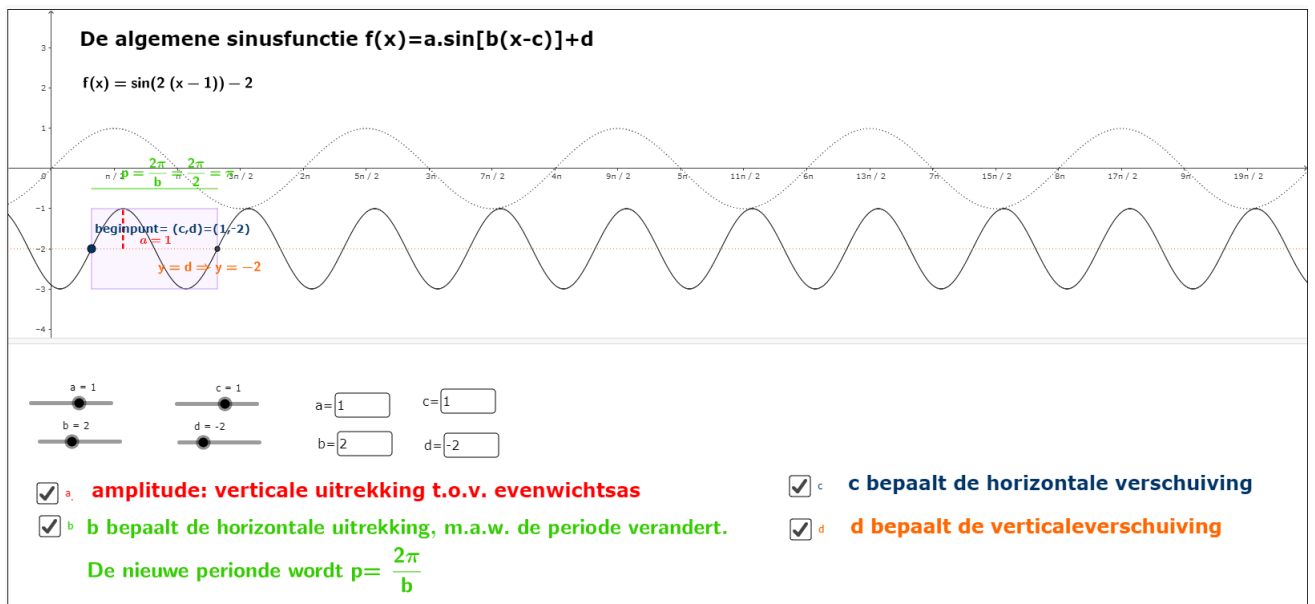
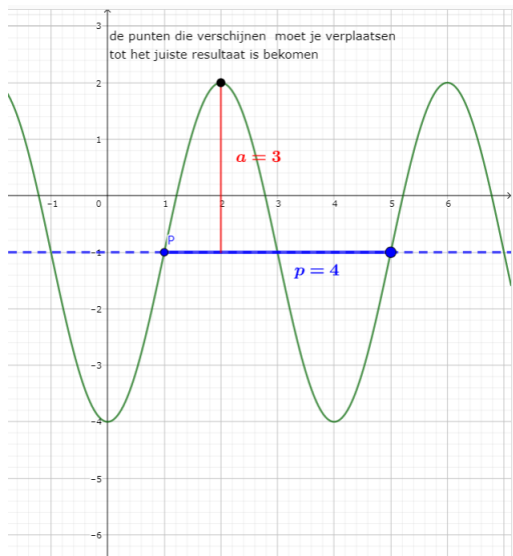


Figure 19: <https://www.geogebra.org/m/BFwHmN4>



## 6.2 functievoorschrift zoeken



### Algemene sinusfunctie: functievoorschriften opstellen

$y = a \sin[b(x-c)] + d$

- Bepaal de evenwichtslijn:  $y=d$**   
 $d = -1$   $y = -1$   $d = -1$
- Bepaal het startpunt:  $P(c,d)$**   $P(-1,1)$   
 Dit is het punt op de evenwichtslijn het dichtste bij de y-as waar de sinusoïde haar kronkel naar boven begint  
 $d = -1$   
 $c = 1$
- Bepaal de periode:**  
 Dit is de lengte van het lijnstuk met beginpunt P en eindpunt het punt waar de sinusoïde opnieuw  
 $\frac{2\pi}{b} = 4 \Leftrightarrow b = \frac{2\pi}{4} = \frac{\pi}{2}$   
 $d = -1$   
 $c = 1$   
 $b = \frac{\pi}{2}$
- Bepaal de amplitude:**  
 Dit is de maximale afstand tussen de grafiek en de evenwichtslijn  
 $d = -1$   
 $c = 1$   
 $b = \frac{\pi}{2}$   
 $a = 3$

$$y = 3 \sin \left[ \frac{\pi}{2} (x - 1) \right] - 1$$

Figure 20: <https://www.geogebra.org/m/BFwHmNn4>

## 7 cyclometrische functies

### 7.1 $f(x) = \sin(x)$

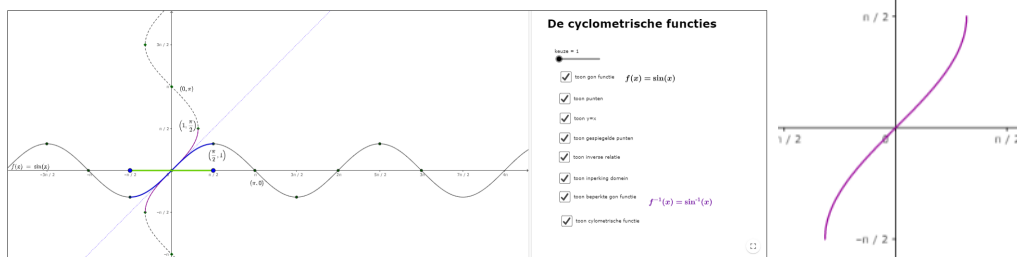


Figure 21: <https://www.geogebra.org/m/Vx7MuEsU>

### 7.2 $f(x) = \cos(x)$

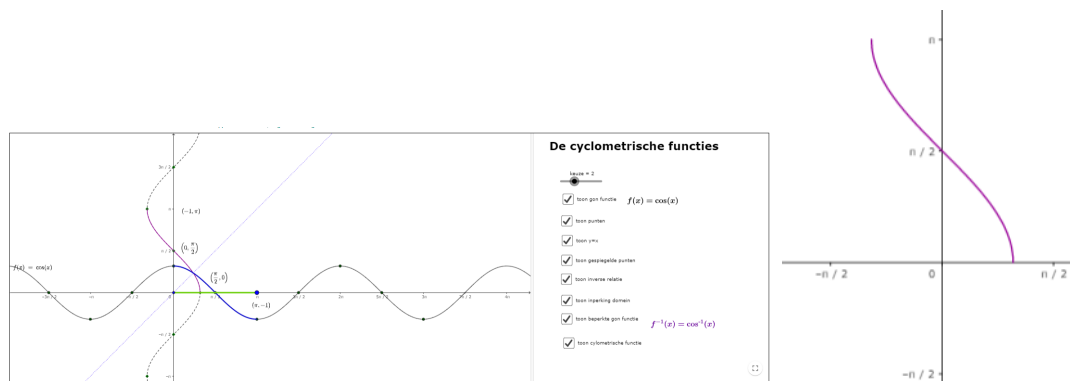


Figure 22: <https://www.geogebra.org/m/Vx7MuEsU>

### 7.3 $f(x) = \arctan(x)$




Figure 23: <https://www.geogebra.org/m/Vx7MuEsU> <https://www.geogebra.org/m/Vx7MuEsU>

## 8 goniometrische formules

### 8.1 hoofdformule

#### Basisformules

$$\begin{aligned} \tan \alpha &= \frac{\sin \alpha}{\cos \alpha} & \cot \alpha &= \frac{\cos \alpha}{\sin \alpha} = \frac{1}{\tan \alpha} \\ \sec \alpha &= \frac{1}{\cos \alpha} & \csc \alpha &= \frac{1}{\sin \alpha} \\ \sin^2 \alpha + \cos^2 \alpha &= 1 & \sin^2 \alpha &= 1 - \cos^2 \alpha \\ & & \cos^2 \alpha &= 1 - \sin^2 \alpha \\ 1 + \tan^2 \alpha &= \frac{1}{\cos^2 \alpha} & 1 + \cot^2 \alpha &= \frac{1}{\sin^2 \alpha} \end{aligned}$$

$$vb1 \text{ TB} : \tan^2 x (1 + \cot^2 x) = \frac{1}{1 - \sin^2 x}$$

$$\begin{aligned} LL &= \frac{\sin^2 x}{\cos^2 x} \left( \frac{1}{\sin^2 x} \right) && \text{oef met } \sin x / \cos x \text{ en } \tan x / \cot x \rightarrow \tan x / \cot x \text{ herschrijven en } 1 + \cot^2 x = \frac{1}{\sin^2 x} \\ &= \frac{\cancel{\sin^2 x}}{\cos^2 x} \cdot \frac{1}{\cancel{\sin^2 x}} = \frac{1}{\cos^2 x} && \text{algebraïsch vereenvoudigen} \\ &= \frac{1}{1 - \sin^2 x} = RL && \text{kijken naar RL, basis formules gebruiken} \end{aligned}$$

$$vb2 : \frac{\sec x + \tan x}{\sec x - \tan x} = \frac{1 + 2\sin x + \sin^2 x}{\cos^2 x}$$

$$\begin{aligned} LL &= \frac{\frac{1}{\cos x} + \frac{\sin x}{\cos x}}{\frac{1}{\cos x} - \frac{\sin x}{\cos x}} && \text{oef met } \sin x / \cos x \text{ en } \tan x / \cot x \rightarrow \tan x / \cot x \text{ herschrijven} \\ &= \frac{1 + \sin x}{1 - \sin x} && \text{algebraïsch vereenvoudigen: T en N als één breuk schrijven} \\ &= \frac{1 + \sin x}{\cos x} \cdot \frac{\cos x}{1 - \sin x} = \frac{1 + \sin x}{1 - \sin x} && \text{algb vereenvoudigen: rekenen met breuk op breuk} \end{aligned}$$

$$RL = \frac{(1 + \sin x)^2}{1 - \sin^2 x} \quad \text{algebraïsch vereenvoudigen: merkwaardig product en voor N gekeken naar LL}$$

$$= \frac{(1 + \sin x)(1 + \sin x)}{(1 - \sin x)(1 + \sin x)} \quad \text{merkwaardige producten gebruikt:}$$

$$(A+B)^2 = A^2 + 2AB + B^2$$

$$A^2 - B^2 = (A-B)(A+B)$$

$$= \frac{1 + \sin x}{1 - \sin x}$$

$$LL=RL$$

Figure 24: <https://www.geogebra.org/m/QfWuM7tH> | <https://www.geogebra.org/m/QfWuM7tH>

### 8.2 somformules

#### Som- en verschilformules

$$\begin{aligned} \sin(\alpha + \beta) &= \sin \alpha \cos \beta + \cos \alpha \sin \beta \\ \sin(\alpha - \beta) &= \sin \alpha \cos \beta - \cos \alpha \sin \beta \\ \cos(\alpha + \beta) &= \cos \alpha \cos \beta - \sin \alpha \sin \beta \\ \cos(\alpha - \beta) &= \cos \alpha \cos \beta + \sin \alpha \sin \beta \\ \tan(\alpha + \beta) &= \frac{\tan \alpha + \tan \beta}{1 - \tan \alpha \cdot \tan \beta} \\ \tan(\alpha - \beta) &= \frac{\tan \alpha - \tan \beta}{1 + \tan \alpha \cdot \tan \beta} \end{aligned}$$

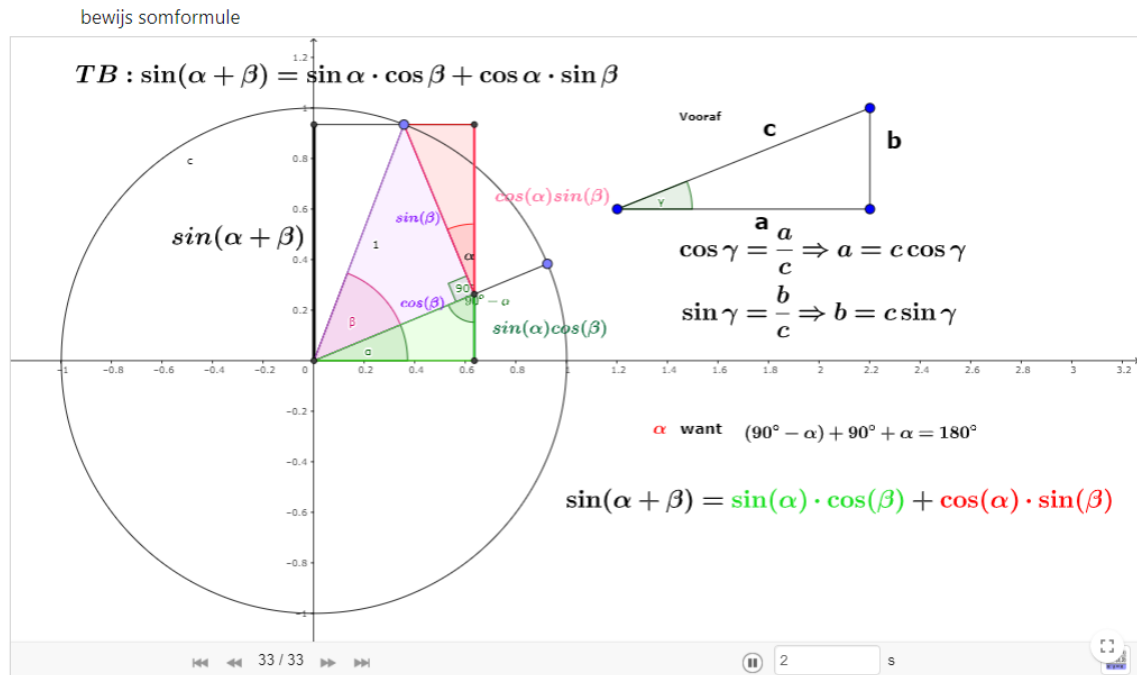


Figure 25: <https://www.geogebra.org/m/QfWuM7tH><https://www.geogebra.org/m/QfWuM7tH>

### 8.3 formules dubbele hoek

Verdubbelings- en halveringsformules

$$\sin(2\alpha) = 2 \sin \alpha \cos \alpha$$

$$\cos(2\alpha) = \cos^2 \alpha - \sin^2 \alpha$$

$$\cos(2\alpha) = 2 \cos^2 \alpha - 1 \quad \cos^2 \alpha = \frac{1 + \cos 2\alpha}{2}$$

$$\cos(2\alpha) = 1 - 2 \sin^2 \alpha \quad \sin^2 \alpha = \frac{1 - \cos 2\alpha}{2}$$

$$\tan 2\alpha = \frac{2 \tan \alpha}{1 - \tan^2 \alpha}$$

### 8.4 Formules van Simpson

Formules van Simpson:

$$\sin \alpha + \sin \beta = 2 \sin \left( \frac{\alpha + \beta}{2} \right) \cos \left( \frac{\alpha - \beta}{2} \right)$$

$$\sin \alpha - \sin \beta = 2 \cos \left( \frac{\alpha + \beta}{2} \right) \sin \left( \frac{\alpha - \beta}{2} \right)$$

$$\cos \alpha + \cos \beta = 2 \cos \left( \frac{\alpha + \beta}{2} \right) \cos \left( \frac{\alpha - \beta}{2} \right)$$

$$\cos \alpha - \cos \beta = -2 \sin \left( \frac{\alpha + \beta}{2} \right) \sin \left( \frac{\alpha - \beta}{2} \right)$$

## 8.5 overzicht alle formules

### Basisformules

$$\begin{aligned} \tan \alpha &= \frac{\sin \alpha}{\cos \alpha} & \cot \alpha &= \frac{\cos \alpha}{\sin \alpha} = \frac{1}{\tan \alpha} \\ \sec \alpha &= \frac{1}{\cos \alpha} & \csc \alpha &= \frac{1}{\sin \alpha} \\ \sin^2 \alpha + \cos^2 \alpha &= 1 & \sin^2 \alpha &= 1 - \cos^2 \alpha \\ & & \cos^2 \alpha &= 1 - \sin^2 \alpha \\ 1 + \tan^2 \alpha &= \frac{1}{\cos^2 \alpha} & 1 + \cot^2 \alpha &= \frac{1}{\sin^2 \alpha} \end{aligned}$$

### Som- en verschilformules

$$\begin{aligned} \sin(\alpha + \beta) &= \sin \alpha \cos \beta + \cos \alpha \sin \beta \\ \sin(\alpha - \beta) &= \sin \alpha \cos \beta - \cos \alpha \sin \beta \\ \cos(\alpha + \beta) &= \cos \alpha \cos \beta - \sin \alpha \sin \beta \\ \cos(\alpha - \beta) &= \cos \alpha \cos \beta + \sin \alpha \sin \beta \\ \tan(\alpha + \beta) &= \frac{\tan \alpha + \tan \beta}{1 - \tan \alpha \cdot \tan \beta} \\ \tan(\alpha - \beta) &= \frac{\tan \alpha - \tan \beta}{1 + \tan \alpha \cdot \tan \beta} \end{aligned}$$

### Verdubbelings- en halveringsformules

$$\begin{aligned} \sin(2\alpha) &= 2 \sin \alpha \cos \alpha \\ \cos(2\alpha) &= \cos^2 \alpha - \sin^2 \alpha \\ \cos(2\alpha) &= 2 \cos^2 \alpha - 1 & \cos^2 \alpha &= \frac{1 + \cos 2\alpha}{2} \\ \cos(2\alpha) &= 1 - 2 \sin^2 \alpha & \sin^2 \alpha &= \frac{1 - \cos 2\alpha}{2} \\ \tan 2\alpha &= \frac{2 \tan \alpha}{1 - \tan^2 \alpha} \end{aligned}$$

### Formules van Simpson:

$$\begin{aligned} \sin \alpha + \sin \beta &= 2 \sin \left( \frac{\alpha + \beta}{2} \right) \cos \left( \frac{\alpha - \beta}{2} \right) \\ \sin \alpha - \sin \beta &= 2 \cos \left( \frac{\alpha + \beta}{2} \right) \sin \left( \frac{\alpha - \beta}{2} \right) \\ \cos \alpha + \cos \beta &= 2 \cos \left( \frac{\alpha + \beta}{2} \right) \cos \left( \frac{\alpha - \beta}{2} \right) \\ \cos \alpha - \cos \beta &= -2 \sin \left( \frac{\alpha + \beta}{2} \right) \sin \left( \frac{\alpha - \beta}{2} \right) \end{aligned}$$

Figure 26: <https://www.geogebra.org/m/QfWuM7tH><https://www.geogebra.org/m/QfWuM7tH>

## 9 Goniometrische vergelijkingen

### 9.1 basisvergelijkingen

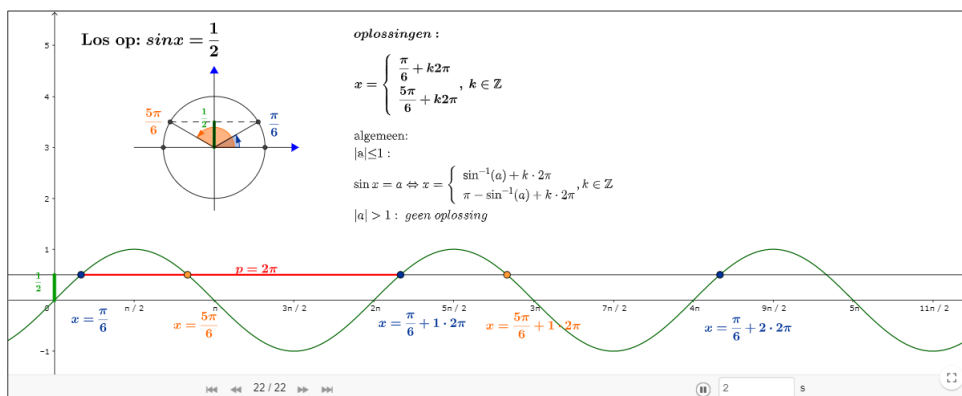


Figure 27: <https://www.geogebra.org/m/ej2fhRDY><https://www.geogebra.org/m/ej2fhRDY>

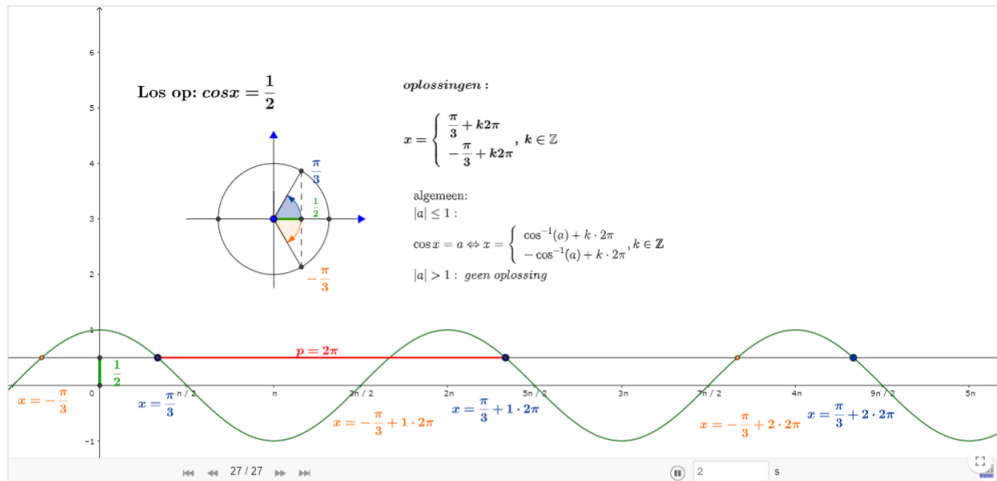


Figure 28: <https://www.geogebra.org/m/ej2fhrDY>

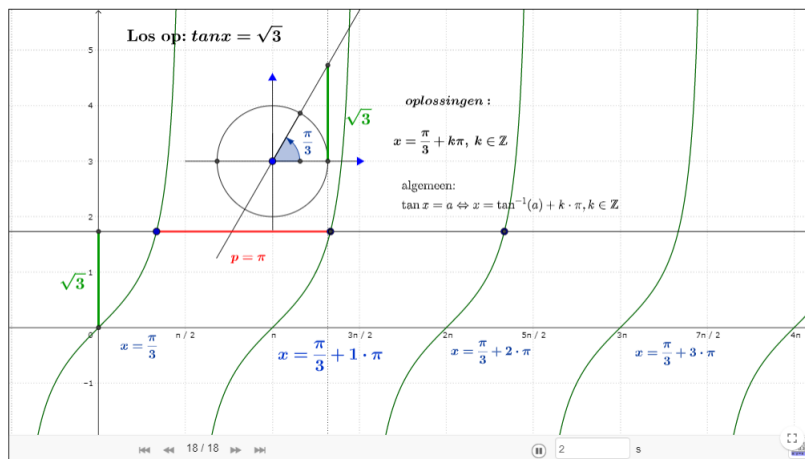


Figure 29: <https://www.geogebra.org/m/ej2fhrDY>

## 9.2 herleidbaar tot basisvergelijking

**Los op:**

$$4 \sin \left[ 2 \left( x - \frac{\pi}{3} \right) \right] = 2$$

$$\Leftrightarrow \sin \left[ 2 \left( x - \frac{\pi}{3} \right) \right] = \frac{21}{42}$$

$$\Leftrightarrow 2 \left( x - \frac{\pi}{3} \right) = \begin{cases} \frac{\pi}{6} + k \cdot 2\pi \\ \frac{5\pi}{6} + k \cdot 2\pi \end{cases}$$

$$\Leftrightarrow x - \frac{\pi}{3} = \begin{cases} \frac{\pi}{12} + k\pi \\ \frac{5\pi}{12} + k\pi \end{cases} \Leftrightarrow x = \begin{cases} \frac{\pi}{12} + \frac{\pi}{3} + k\pi \\ \frac{5\pi}{12} + \frac{\pi}{3} + k\pi \end{cases}$$

Figure 30: <https://www.geogebra.org/m/esxkvnhr>

### 9.3 m.b.v. ontbinding in factoren

**Los op:**


$$\cos(x) + \sin(2x) = 0$$
$$\Leftrightarrow \cos x + 2 \sin x \cos x = 0$$
$$\Leftrightarrow \cos x(1 + 2 \sin x) = 0$$
$$\Leftrightarrow \cos x = 0 \vee 1 + 2 \sin x = 0$$
$$\Leftrightarrow \cos x = 0 \vee \sin x = -\frac{1}{2}$$
$$\Leftrightarrow x = \begin{cases} \frac{\pi}{2} + k \cdot 2\pi \\ -\frac{\pi}{2} + k \cdot 2\pi \end{cases} \vee x = \begin{cases} -\frac{\pi}{6} + k \cdot 2\pi \\ \pi - \left(-\frac{\pi}{6}\right) + k \cdot 2\pi \end{cases}$$
$$\Leftrightarrow x = \frac{\pi}{2} + k \cdot \pi \vee x = \begin{cases} -\frac{\pi}{6} + k \cdot 2\pi \\ \frac{7\pi}{6} + k \cdot 2\pi \end{cases}$$


Figure 31: <https://www.geogebra.org/m/esxkvnhr>

### 9.4 herleidbaar tot vierkantsvergelijking

**Los op:**


$$6 \sin^2 x + 5 \cos x = 7$$
$$\Leftrightarrow 6(1 - \cos^2 x) + 5 \cos x - 7 = 0$$
$$\Leftrightarrow -6 \cos^2 x + 5 \cos x - 1 = 0$$
$$D = 5^2 - 4(-6)(-1) = 1$$
$$(\cos x)_{1,2} = \frac{-5 \pm 1}{-12} = \begin{cases} \nearrow \frac{1}{3} \\ \searrow \frac{1}{2} \end{cases}$$
$$\Leftrightarrow \cos x = \frac{1}{3} \vee \cos x = \frac{1}{2}$$
$$\Leftrightarrow x = \begin{cases} \cos^{-1}\left(\frac{1}{3}\right) + k \cdot 2\pi \\ -\cos^{-1}\left(\frac{1}{3}\right) + k \cdot 2\pi \end{cases} \vee x = \begin{cases} \frac{\pi}{3} + k \cdot 2\pi \\ -\frac{\pi}{3} + k \cdot 2\pi \end{cases}$$


Figure 32: <https://www.geogebra.org/m/esxkvnhr>

## 9.5 homogeen

**Los op:**

$\sin x + \cos x = 0$

*Homogene vergelijking  $gr = 1 \rightarrow$  deel door  $\cos^1 x$*

$\tan x + 1 = 0$

$\Leftrightarrow \tan x = -1$

$\Leftrightarrow x = -\frac{\pi}{4} + k \cdot \pi$

$8 \sin^2 x - 14 \sin x \cos x + 5 \cos^2 x = 0$

*Homogene vergelijking  $gr = 2 \rightarrow$  deel door  $\cos^2 x$*

$8 \tan^2 x - 14 \tan x + 5 = 0$

$D = (-14)^2 - 4 \cdot 8 \cdot 5 = 36$

$(\tan x)_{1,2} = \frac{14 \pm 6}{16} = \begin{matrix} \nearrow \frac{5}{4} \\ \searrow \frac{1}{2} \end{matrix}$

$\Leftrightarrow \tan x = \frac{5}{4} \vee \tan x = \frac{1}{2}$

$\Leftrightarrow x = \tan^{-1}\left(\frac{5}{4}\right) + k \cdot \pi \vee x = \tan^{-1}\left(\frac{1}{2}\right) + k \cdot \pi$

Figure 33: <https://www.geogebra.org/m/esxkvnhr>

## 9.6 $a \sin(x) + b \cos(x) = c$

## 10 goniometrische ongelijkheden

ongelijkheid met sinus

**Los op:  $\sin(x) \geq \frac{1}{2}$**

- 1)  $\sin(x) = \frac{1}{2}$
- 2) Duid aan:  $\sin(x) \geq \frac{1}{2}$
- 3) Noteer oplossing:

$$\frac{\pi}{6} + k2\pi \leq x \leq \frac{5\pi}{6} + k2\pi; k \in \mathbb{Z}$$

Figure 34: <https://www.geogebra.org/m/jr7kkdkt>

ongelijkheid met cosinus

**Los op:  $\cos(x) \leq -\frac{1}{2}$**

- 1)  $\cos(x) = -\frac{1}{2}$
- 2) Duid aan:  $\cos(x) \leq -\frac{1}{2}$
- 3) Noteer oplossing:

$$\frac{2\pi}{3} + k2\pi \leq x \leq \frac{4\pi}{3} + k2\pi; k \in \mathbb{Z}$$

**Dit kan niet!**

$$\frac{2\pi}{3} + k2\pi \leq x \leq \frac{4\pi}{3} + k2\pi; k \in \mathbb{Z}$$

Figure 35: <https://www.geogebra.org/m/jr7kkdkt>



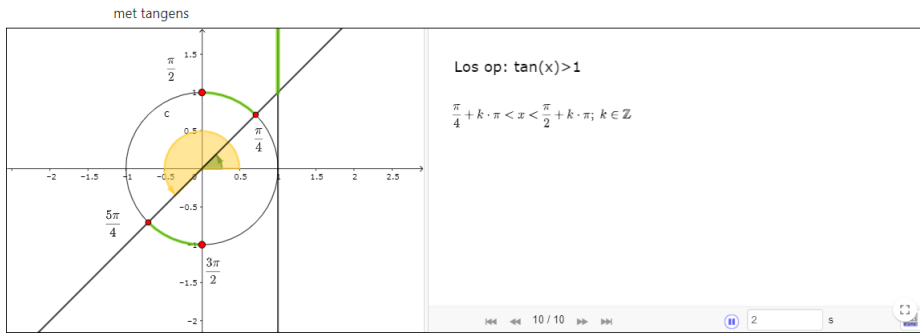


Figure 36: <https://www.geogebra.org/m/jr7kkdkt>

## 11 oefeningen

### 11.1 De goniometrische cirkel

### 11.2 De goniometrische getallen

1. Los op:

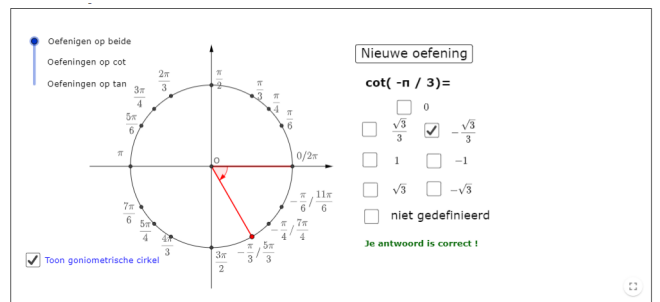
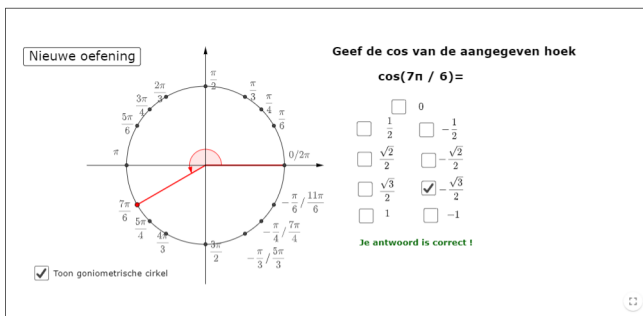



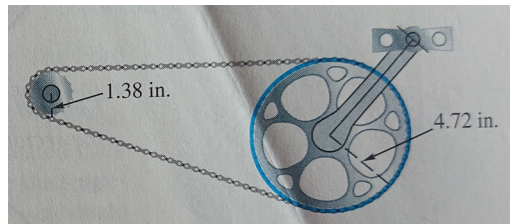
Figure 37: <https://www.geogebra.org/m/kqsesuxn> <https://www.geogebra.org/m/kqsesuxn>

### 11.3 de radiaal

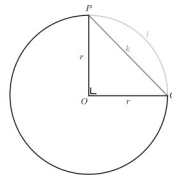
1. Zet om van graden naar radialen
  - (a)  $150^\circ$
  - (b)  $-900^\circ$
  - (c)  $56^\circ 25'$
2. zet om van radialen naar graden
  - (a)  $\frac{11\pi}{6}$
  - (b)  $-5\pi$
  - (c)  $1.74$
3. Over hoeveel radialen draait de minutenwijzer van een klok in 3 uur?
4. Bepaal de afstand tussen de steden Reno en Los Angeles. Deze steden liggen op dezelfde meridiaan. De latitude van Reno is  $40N$  en deze van Los Angeles is  $34N$ . Je mag voor de straal van de aarde  $6400$  km nemen.
5. Het kleine tandwiel drijft het grote tandwiel aan. Als het kleine tandwiel  $225$  gedraaid wordt, over hoeveel graden zal dan het grote tandwiel gedraaid zijn? ( $A \approx 117$ )



6. De figuur toont de wielaandrijving van een fiets. Hoever zal de fietser zich verplaatsen als de pedalen over een hoek van  $180^\circ$  gedraaid worden? Neem aan dat de straal van het fietswiel 13.6 inches is.



7. Bepaal de verhouding  $\frac{l}{k}$



## 11.4 Verwante hoeken

- Gegeven  $\alpha = \frac{5\pi}{6}$  Bepaal van deze georiënteerde hoek de
  - de tegengestelde hoek
  - de supplementaire hoek
  - de complementaire hoek
  - de anti-supplementaire hoek
 met aanduiding van al deze hoeken op de goniometrische cirkel
- Vereenvoudig volgende uitdrukkingen door gebruik te maken van de formules voor verwante hoeken

$$(a) \frac{\sin(\frac{\pi}{2}-\alpha) \cdot \sin(\pi+\alpha)}{\cos(\frac{\pi}{2}+\alpha) \cdot \cos(\pi-\alpha)} + \frac{\sin(9\pi-\alpha) \cdot \tan(\alpha-\frac{\pi}{2})}{\cot(\alpha+5\pi) \cdot \cos(\frac{3\pi}{2}-\alpha)}$$

$$(b) \frac{\sin(\frac{\pi}{2}-\alpha) \cdot \cos(2\pi+\alpha) \cdot \tan(\pi-\alpha)}{\tan(4\pi-\alpha) \cdot \cot(\alpha+\pi) \cdot \cos(-\alpha)}$$

## 11.5 Goniometrische functies

- Geef de tekentabel van  $f(x) = \sin(x)$  in het interval  $[5\pi, 8\pi]$
- Bespreek en teken de grafieken van
  - $f(x) = \cot(x)$
  - $f(x) = \frac{1}{\sin(x)}$
  - $f(x) = \frac{1}{\cos(x)}$

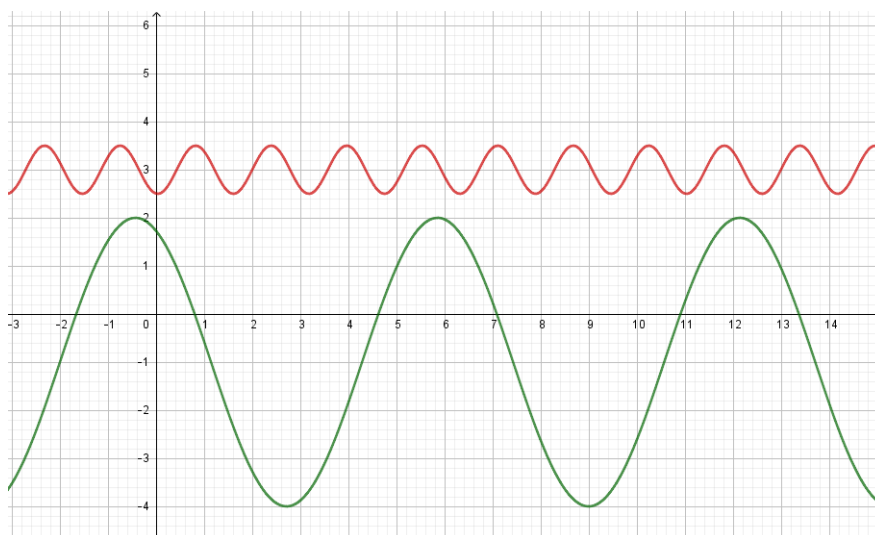
## 11.6 Algemene sinusfunctie

1. Schets de grafiek van volgende algemene sinusfunctie

(a)  $y = 2 \sin\left(x + \frac{\pi}{2}\right)$

(b)  $y = \frac{1}{2} + \sin\left[2\left(x + \frac{\pi}{4}\right)\right]$

2. Bepaal het voorschrift van onderstaande grafieken van algemene sinusfuncties



3. Bepaal de transformaties uitgevoerd op de grafiek van  $f(x) = \sin(x)$  om de grafiek van onderstaande functies te bekomen:

(a)  $f(x) = 5 \sin\left[\frac{1}{2}\left(x - \frac{\pi}{4}\right)\right] - 2$

(b)  $f(x) = 3 \cos\left(3x + \frac{3\pi}{2}\right)$

4. De gemiddelde temperatuur (in °F) op een zekere plaats kan bij benadering gemodelleerd worden door de functie  $f(x) = 12 \sin\left[\frac{\pi}{6}(x - 3.9)\right] + 72$  met  $x = 1$  ingevuld de gemiddelde temperatuur voor januari geeft enz.

- (a) Wat zal de gemiddelde temperatuur in april zijn?
- (b) Bepaal de periode en verklaar deze lengte
- (c) Wat zijn de grootste en laagste gemiddelde temperatuur?

5. De grafiek van een algemene sinusfunctie bereikt opeenvolgend een minimum en een maximum in de punten met coördinaten  $(5,-2)$  en  $(9,4)$ . Bepaal het voorschrift vna die functie.

6. De grafiek van een algemene sinusfunctie bereikt opeenvolgend een maximum en een minimum in de punten met coördinaten  $(-2,3)$  en  $(4,-7)$ . Bepaal het voorschrift van die functie

7. Bepaal het voorschrift van de algemene sinusfunctie die als model gebruikt kan worden om de gemiddelde wereldwijde jaartemperatuur weer te geven. Grafiek zie pagina 1.

8. Een reuzenrad heeft een diameter van 20 meter. Het centrale draaipunt bevindt zich 11 meter boven de grond. Elke 28 seconden draait het rad eenmaal rond. Op het tijdstip  $t=0$  stappen Maarten en Els onderaan in een bakje.

- (a) Bereken de hoogte  $h$  (in m) van het bakje waarin Els en Maarten zich bevinden in functie van de tijd  $t$  (in s).
- (b) bereken de hoogte van het bakje van Els en Maarten na 10 seconden.

9. Bepaal het voorschrift van de hoogte van de onderste gondel van een reuzenrad in functie van de tijd.

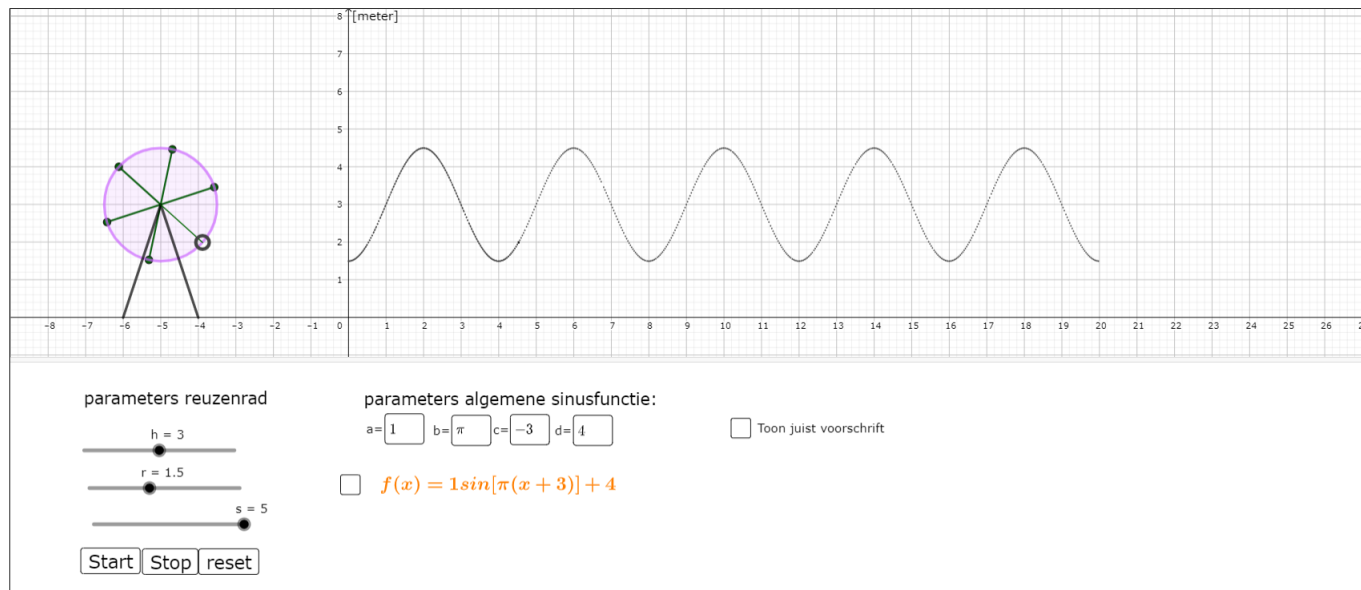


Figure 38: <https://www.geogebra.org/m/BFwHmNn4>

10. Een automobilist ziet de reflecterende pedalen van een fietser voor hem in een rechte lijn op en neer gaan.  
Die op- en neergaande beweging kan voor het rechterpedaal beschreven worden met de formule  $r(t) = 28 - 17\sin(2\pi t)$  waarin  $r(t)$  de hoogte is in cm ten opzichte van het wegdek en  $t$  de tijd in seconden.
- Wat betekenen de getallen 17 en 28 in deze situatie?
  - Hoelang duurt 1 omwenteling van het pedaal?
  - Met welke formule kan je op ogenblik  $t$  de hoogte van het linkerpedaal berekenen?
11. In de fysica wordt om cirkelvormige bewegingen te beschrijven onderstaande vorm van de algemene sinusfunctie gebruikt:

$$y = a \sin(\omega t + \phi)$$

met

- $a$ : amplitude
- $\omega$ : hoeksnelheid of hoekfrequentie
- $\phi$ : fasehoek
- $-\frac{\phi}{\omega}$ : faseverschuiving
- $T = \frac{2\pi}{\omega}$ : Trillingstijd of periode
- $f = \frac{1}{T}$ : frequentie

## 11.7 Cyclometrische functies

1. Bereken

- $\sin^{-1}(0)$
- $\operatorname{asin}\left(\frac{\sqrt{3}}{2}\right)$
- $\operatorname{Bgtan}\left(\sin\left(\frac{5\pi}{6}\right)\right)$
- $\operatorname{Bgcos}\left(\cos\left(\frac{7\pi}{6}\right)\right)$

2. Voor welke waarden van  $x$  geldt
  - (a)  $\sin(B\sin(x))=x$
  - (b)  $B\sin(\sin(x))=x$
3. Bewijs:  $\forall x \in [-1, 1] : B\sin(x) + B\cos(x) = \frac{\pi}{2}$
4. Los op:  $\arcsin(2x) + \arcsin(3x) = \frac{\pi}{3}$  met  $0 \leq x \leq \frac{1}{3}$  (A.  $x = \sqrt{\frac{3}{76}}$ )

## 11.8 Goniometrische formules

1. Bewijs volgende identiteiten
  - (a)  $(\sin \alpha + \cos \alpha)^2 = 1 + 2 \sin \alpha \cos \alpha$
  - (b)  $\frac{\tan^2 \alpha - 1}{\tan^2 \alpha + 1} = \sin^2 \alpha - \cos^2 \alpha$
  - (c)  $\frac{1 - \sin^4 \alpha}{\cos^2 \alpha} - 2 \sin^2 \alpha = \cos^2 \alpha$
  - (d)  $\cot \alpha \cdot \sec \alpha \cdot \operatorname{cosec} \alpha = \operatorname{cosec}^2 \alpha$
  - (e)  $(\operatorname{cosec} \alpha - \sin \alpha)(\sec \alpha - \cos \alpha) = \frac{1}{\tan \alpha + \cot \alpha}$
2. Bewijs  $\cos(\alpha + \beta) = \cos(\alpha) \cos(\beta) - \sin(\alpha) \sin(\beta)$
3. gegeven  $\sin(x) = \frac{2}{3}$  met  $\frac{\pi}{2} < x < \pi$ . Bepaal de waarde van  $\sin(2x)$
4. Gegeven zijn  $\sin A = \frac{4}{5}$  en  $A \in II$ ,  $\cos B = -\frac{5}{13}$  met  $B \in III$ . Bepaal:
  - (a)  $\sin(A + B)$
  - (b)  $\tan(A + B)$
  - (c) het kwadrant waartoe  $A+B$  behoort
5. Bewijs volgende identiteiten
  - (a)  $\sin\left(\frac{\pi}{6} + \theta\right) + \cos\left(\frac{\pi}{3} + \theta\right) = \cos \theta$
  - (b)  $\sin(x - y) \cos y + \sin y \cos(x - y) = \sin x$
  - (c)  $1 + \tan x \cdot \tan 2x = \sec 2x$
  - (d)  $\tan^2 x - \tan^2 y = \frac{\sin(x+y) \sin(x-y)}{\cos^2 x \cos^2 y}$
  - (e)  $\sin(A + B) \sin(A - B) = \sin^2 A - \sin^2 B$
  - (f)  $\frac{\cos(A-B)}{\cos A \sin B} = \tan A + \cot B$
6. Gegeven  $\cos \theta = \frac{3}{5}$  en  $\sin \theta < 0$ . Bepaal  $\sin 2\theta$ ,  $\cos 2\theta$  en  $\tan 2\theta$
7. Toon aan:
  - (a)  $\cos\left(\frac{\pi}{8}\right) = \frac{\sqrt{2+\sqrt{2}}}{2}$
  - (b)  $\tan\left(\frac{\pi}{8}\right) = \sqrt{2} - 1$
  - (c)  $\cos 15^\circ = \frac{\sqrt{6}+\sqrt{2}}{4}$
8. Bepaal de waarden van de 6 goniometrische functies van  $\theta$  als  $\cos 2\theta = \frac{4}{5}$  en  $\theta \in II$
9. Bewijs volgende identiteiten
  - (a)  $\cos^4 \alpha - \sin^4 \alpha = \cos 2\alpha$
  - (b)  $\frac{1+\sin \theta - \cos \theta}{1+\sin \theta + \cos \theta} = \tan\left(\frac{\theta}{2}\right)$
  - (c)  $\tan\left(\frac{\alpha}{2}\right) = \frac{\sin \alpha}{1+\cos \alpha}$
  - (d)  $\frac{1+\sin \alpha}{1-\sin \alpha} = \tan^2\left(45 + \frac{\alpha}{2}\right)$
  - (e)  $\cot x \cdot \sin 2x = 1 + \cos 2x$
  - (f)  $\sin 4x = 4 \sin x \cdot \cos x - 8 \sin^3 x \cdot \cos x$

10. Bewijs volgende identiteiten

- (a)  $\frac{\sin 2\alpha + \sin 3\alpha}{\cos 2\alpha - \cos 3\alpha} = \cot\left(\frac{\alpha}{2}\right)$
- (b)  $\frac{\sin 2\alpha + \sin 5\alpha - \sin \alpha}{\cos 2\alpha + \cos 5\alpha + \cos \alpha} = \tan 2\alpha$
- (c)  $\tan 2\alpha - \tan \alpha = \frac{2 \sin \alpha}{\cos \alpha + \cos 3\alpha}$
- (d)  $\cos^2 \theta + \cos^2\left(\frac{\pi}{3} - \theta\right) + \cos^2\left(\frac{\pi}{3} + \theta\right) = \frac{3}{2}$

11. Als we weten dat  $\alpha, \beta$  en  $\gamma$  de hoeken van een driehoek zijn, bewijs dan:

- (a)  $\sin \alpha + \sin \beta - \sin \gamma = 4 \sin \frac{\alpha}{2} \sin \frac{\beta}{2} \cos \frac{\gamma}{2}$
- (b)  $\cos \alpha - \cos \beta + \cos \gamma + 1 = 4 \cos \frac{\alpha}{2} \sin \frac{\beta}{2} \cos \frac{\gamma}{2}$
- (c)  $\cos^2 \alpha + \cos^2 \beta + \cos^2 \gamma + 2 \cos \alpha \cos \beta \cos \gamma = 1$
- (d)  $\sin 2\alpha - \sin 2\beta + \sin 2\gamma = 4 \cos \alpha \sin \beta \cos \gamma$

12. Bewijs de volgende bewering: als  $\alpha, \beta$  en  $\gamma$  de hoeken van een driehoek ABC zijn, dan geldt

$$\alpha = 90 \Leftrightarrow \sin \alpha = \frac{\sin \beta + \sin \gamma}{\cos \beta + \cos \gamma}$$

13. Stel  $A = \cos\left(\frac{\pi}{2^2}\right) \cdot \cos\left(\frac{\pi}{2^3}\right) \cdots \cos\left(\frac{\pi}{2^{2022}}\right)$ . Bereken  $A \cdot \sin\left(\frac{\pi}{2^{2022}}\right)$  (A.  $\frac{1}{2^{2021}}$ )

## 11.9 Goniometrische vergelijkingen

1. Los de volgende vergelijkingen op:

- (a)  $\tan x = \tan \frac{\pi}{6}$
- (b)  $2 \cos x = 1$
- (c)  $\cos x = 0, 1$
- (d)  $\cos x - \sin x = 0$
- (e)  $2 \sin\left[3\left(x - \frac{\pi}{4}\right)\right] = 1$
- (f)  $\sin 2x + \sin 3x + \sin 4x = 0$
- (g)  $2 \sin^2 x + \sin x - 1 = 0$
- (h)  $3 \tan x + 5 = 2$
- (i)  $\sin\left(x - \frac{\pi}{6}\right) = -2 \cos(x)$
- (j)  $\tan^2 x + \tan x - 2 = 0$
- (k)  $\cos^2 x - \sin^2 x = 0$
- (l)  $4 \sin \theta \cos \theta = \sqrt{3}$
- (m)  $\cos x = \sin^2\left(\frac{x}{2}\right)$
- (n)  $2 \cos^2 x + 3 \sin x - 3 = 0$
- (o)  $\sin x = \cos\left(\frac{x}{2}\right)$
- (p)  $\tan^2\left(2x - \frac{\pi}{6}\right) = 11 - \sec\left(2x - \frac{\pi}{6}\right)$

2. Los de volgende vergelijkingen op. Geef alle oplossingen in het gegeven interval

(a)  $2 \cos^2(x) + \sin(x) = 1, \quad [0, 4\pi]$

3. Los de volgende vergelijkingen op. Zijn er geen oplossingen verdwenen?

- (a)  $\tan(x + 45) = 2 \cot(x) - 1$
- (b)  $\cos^2 x - \sin 2x = 0$

4. Toon aan: Als  $5 \cos^2 \theta - \cos \theta = \sin^2 \theta$  dan is  $\tan \theta = 2\sqrt{2}$

5. Het getal  $\tau$  is de kleinste waarde  $t > 0$  waarvoor  $2 \cos\left(2t - \frac{2\pi}{3}\right) = 1$ . Bepaal  $\sin(\tau)$ . (A.  $\frac{1}{2}$ )

6. De gemiddelde maandelijkse temperatuur in Vancouver kan gemodelleerd worden door  $f(x) = 14 \sin\left[\frac{\pi}{4}(x - 4)\right] + 50$  met  $x = 1$  overeenkomt met januari enz. Wanneer is de temperatuur

- (a)  $64^\circ \text{ F}$
- (b)  $39^\circ \text{ F}$

## 11.10 Goniometrische ongelijkheden

Los volgende ongelijkheden op:

1.  $4 \sin[2(x + 1)] - 3 < -1$
2.  $|\sin 2x| > \frac{\sqrt{3}}{2}$
3.  $\cos\left(\frac{x}{3}\right) > \frac{\sqrt{2}}{2}$
4.  $-3 < 3 \tan\left(2x + \frac{\pi}{6}\right) \leq \sqrt{3}$
5.  $\tan(4x) \geq \frac{\sqrt{3}}{3}$
6.  $2 \cos^2 x - 5 \sin x + 1 > 0$

## 12 Toepassingen

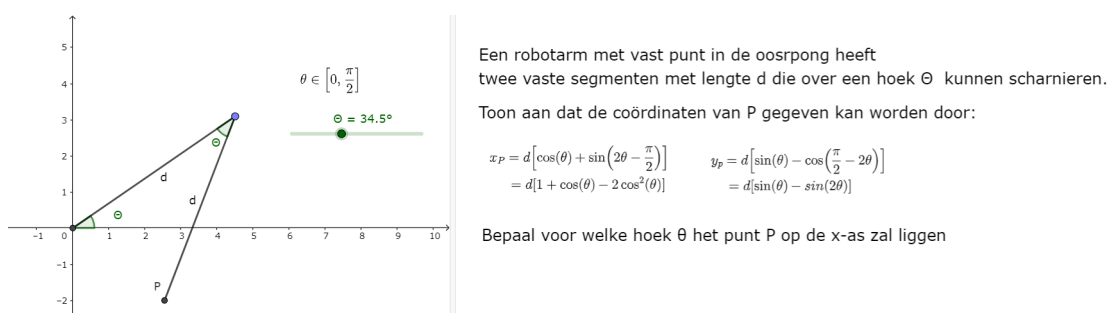


Figure 39: <https://www.geogebra.org/m/gyya8t2c>

## 13 Taken

1. Verwante hoeken
2. Goniometrische formules I
3. Goniometrische formules II
4. Goniometrische vergelijkingen
5. Goniometrische ongelijkheden