

樂善堂梁銻琚學校(分校)
三年級下學期數學科工作紙

姓名：_____ ()

班別：_____

積分：_____

日期：_____




比較角的大小

一. 根據下圖估計每一題，哪一個角較大？(圈出正確答案)

二. 利用右方的二維碼，進入 geogebra，圈出實際結果，

看看你的估計是否正確？



		估計 結果	實際 結果
1.		A / B	A / B
2.		C / D	C / D
3.		E / F	E / F